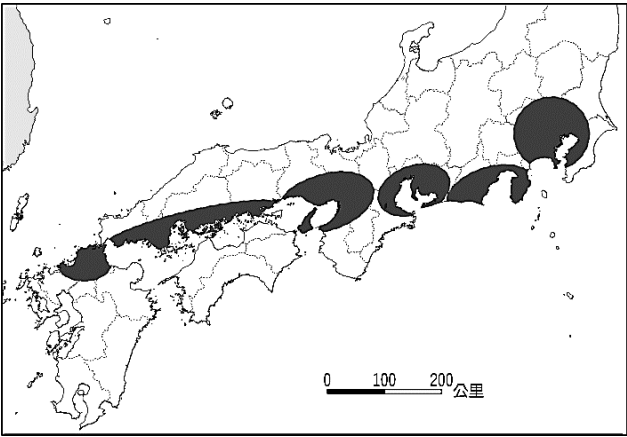


《地理科試題：共20題，每題5分》

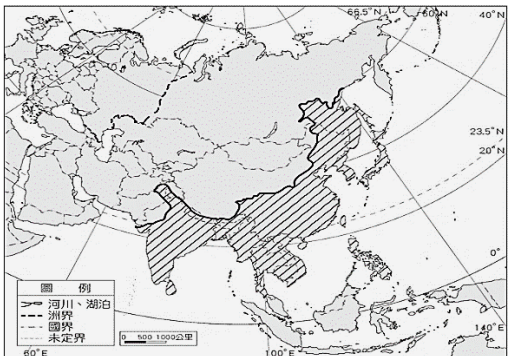
一、單一選擇題

1. 圖(一)是日本主要工業區示意圖。請問：關於日本工業區的敘述何者正確？
- (A)主要工業區分布範圍集中在日本海  
(B)日本主要的工業區屬於交通區位  
(C)工業區附近產擁有豐富的礦產資源  
(D)四大島中的四國為主要工業區的重鎮



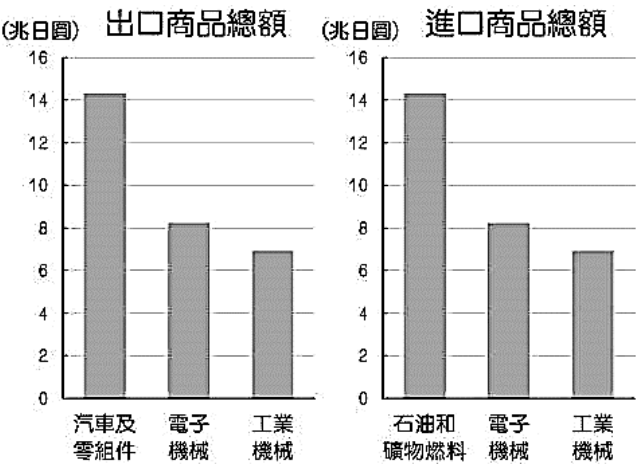
圖(一)

2. 韓國泡菜是韓國固有的傳統發酵食品，2001年被國際食品規格委員會指定為國際食品，目前作為健康食品廣受世界各國人的喜愛。請問兩韓均有製作泡菜的文化，與下列何者有關？
- (A)冬季低溫作物生長季短 (B)夏季高溫容易孳生病菌  
(C)颱風侵襲次數頻繁 (D)朝鮮半島平原面積狹小
3. 第74屆紅白歌唱大賽於2023年12月31日，透過NHK的電視與電台頻道，向日本以及全世界播出。日本知名歌手演唱膾炙人口的動漫影視作品，如《我推的孩子》、《灌籃高手》等，然而海內外直播收視率仍不如預期，日本媒體認為：近年南韓K-POP和韓劇文化撼動日本動漫市場。從上述競爭可推論：日、韓兩國在上述經濟發展有何特色？
- (A)工資上漲加速產業外移 (B)積極推動文化產業  
(C)國際貿易呈現入超 (D)大量生產降低產品售價。
4. 2023年11月北韓國營中央通信社(KCNA)報導，一枚載有衛星的火箭從平安北道發射升空，沿著指定路徑飛行，並「準確的把偵察衛星『萬里鏡1號(Malligyong-1)』送入軌道」。下面針對北韓工業發展的敘述何者正確？
- (A)近年來積極推動工業升級  
(B)利用海岸線設立加工出口區吸引外資  
(C)運用豐富礦產資源發展國防工業  
(D)積極透過民營企業布局海外海外市場
5. 圖(二)中斜線區塊為「季風氣候」的主要分布地區，請問下列哪一個地區沒有位在該氣候區之中？
- (A)中亞 (B)東亞 (C)南亞 (D)東北亞。



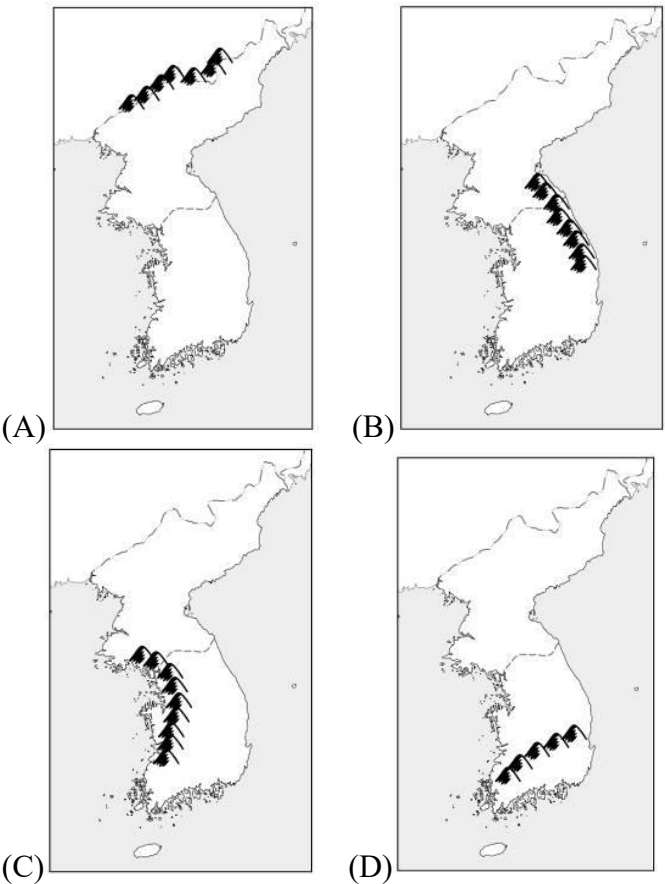
圖(二)

6. 有人戲稱南韓人其實是生活在三星共和國，出生在三星醫院，住在三星物產建設的大樓裡，所有保險由三星生命保險負責，到三星樂園玩。三星集團整體營收相當於南韓的五分之一，「大到不能倒」是這個現象的寫照。上述發生的原因與南韓政府哪個政策有關？
- (A)扶植大財團的經濟政策  
(B)與多國簽訂自由貿易協定  
(C)推動工業升級邁向高科技  
(D)娛樂影劇結合時尚
7. 圖(三)是西元2021年日本進口與出口商品類別總額。請問：根據圖中資訊，下列哪一項敘述最正確？
- (A)日本國內對於原物料的需求量偏低  
(B)日本出口第一級產品的比重高於第二級  
(C)日本進出口的貿易總額超過中國  
(D)日本須大量輸入國外原物料以彌補自身缺陷



圖(三)

8. 太白山脈是朝鮮半島的脊梁山脈，下列哪一張圖正確的標示出太白山脈的所在位置？



9. 第二次世界大戰之後，朝鮮半島分裂成南北兩個國家，導致這兩個國家的發展大不相同。請根據下表回答：關於兩個國家的比較，下列何者正確？

	(A)政體	(B)首都	(C)作物收成	(D)礦產
南韓	獨裁專制	平壤	年可二穫	豐富
北韓	民主	首爾	年可一穫	缺乏

10. 日本人喜歡在櫻花樹下賞櫻，日本氣象廳每年都會針對各地櫻花開放的時間進行預測，如圖（四）所示。請問各地櫻花開花時間預測數據的地理位置分布與下列何者最具相關性？

(A)海拔高度 (B)氣溫變化 (C)距海遠近 (D)季風強度



圖(四)

二、題組題

(一)11. -13.

在台灣常可聽到「稻田養鴨」的種養模式。其好處在於鴨子可以吃掉稻田裡的雜草和害蟲，對於稻田的生態環境具有保護作用。

近期，一家日本汽車製造商，研發出了一款新型農耕機器名為「機器鴨」【如圖(五)所示】，便是模仿鴨子的活動型態而設計的，可完成稻田裡除雜草和害蟲的任務，讓種田變得更省力。

機器運作時，兩個橡膠刷可以攪拌稻田裡的水，把水變得渾濁，從而達到抑制雜草生長的作用。並配備了GPS導航系統，和WiFi連接以後，它能按照導航的指示，在水稻的間隙里遊動，絕不會影響水稻的生長。這款機器人採用的是太陽能發電，只要有陽光照射就能運行，甚至可以能夠24小時工作，以彌補日本農村人力資源短缺的問題。



圖(五)

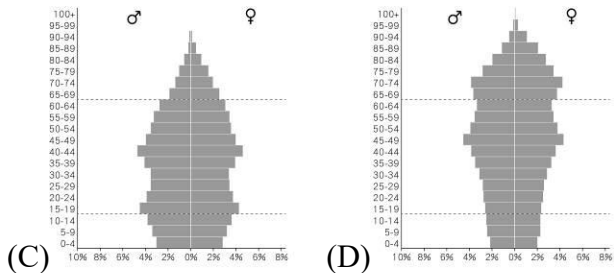
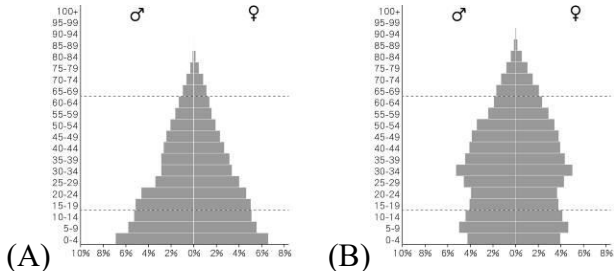
11. 請問設計機器鴨的廠商，最很可能為下列何者？

(A)	(B)	(C)	(D)

12. 米是亞洲人的主食，日本有各種不同的米飯料理，若想要到日本當地品嚐道地的米食，應避免點選哪一道料理？

(A)握壽司 (B)海苔飯糰 (C)石鍋拌飯 (D)牛肉丼飯

13. 日本發展智慧型農業，反映出日本在人力資源短缺，所實施的一種解套方式。請問下列哪一張圖反映了當今日本的人口結構？



(二)14. -20.

2024年1月的日本顯得十分的不平靜。

1/1日本石川縣觀測到最大震度7.6（日本標準）的能登半島地震，隨後發生至少15次的餘震，日本氣象廳及周邊國家甚至發布了海嘯警報。同日，九州傳御岳也出現火山噴發的現象，火山灰柱上竄1600公尺。

能登半島地震對石川縣的相關產業帶來不小的影響。如日本電子大廠：日本顯示器(JDI)的液晶面板、三壑電氣的半導體製造廠、村田製作所的積層陶瓷電容廠等，於地震後開始檢查基礎設施及進行產線損害評估，勢必衝擊相關的供應鏈及物流。而石川縣著名的漁市場「近江町市場」，也因地震後致使沿海漁獲供應減少，使得海鮮攤販業者面臨無貨可賣的窘境。

據統計因地震過世的人數超過百人，並有多人失蹤。搜救工作舉步維艱，除了多條陸路中斷外，近期還因降雨和降雪而增加搜救難度。

然而，就在能登半島地震發生的隔天，位於日本首都的羽田機場發生跑道撞機事故。一架滿載地震救災物資的海上保安廳飛機，遭到來自札幌啟航的民航機追撞，兩架飛機隨即陷入火海，釀成5人喪生的悲劇。



圖(六)

14. 日本「能登半島地震」的發生，其主要成因與日本哪一項自然環境的特徵有關？ (A)屬於古老的陸塊 (B)位在板塊交界帶 (C)四面環海 (D)寒暖洋流交會。

15. 根據圖(六)中「能登半島地震」所處的震央位置顯示，日本氣象廳以哪個海域發布海嘯警報的範圍最大？ (A)太平洋 (B)日本海 (C)黃海 (D)南海。

16. 根據文中判斷，圖(六)中哪一個城市離傳御岳火山爆發的地點最近？ (A)札幌 (B)東京 (C)名古屋 (D)福岡

17. 日本為亞洲地區經濟發展較早的國家，藉由各項商品對外出口，獲取大量的利潤。依據文中的敘述日本顯示器(JDI)、三壑電氣、村田製作所應屬於何種工業類別？ (A)資源密集型產業 (B)勞力密集型產業 (C)研發創新產業 (D)加工製造型產業。

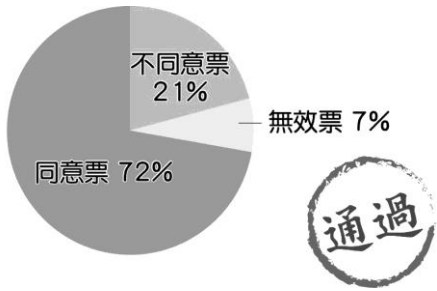


18. 「近江町市場」的漁產貨源主要來自附近沿海漁港，請問石川縣漁業資源豐富的主要原因為何？  
(A)寒暖流交會 (B)海洋水域深  
(C)海陸比熱差異 (D)潮汐波浪大。
19. 地震災區的搜救隊因下雨、下雪的關係，延緩原本預定的搜救進度，請問下列何者是造成日本石川縣下雨、下雪主因？  
(A)夏季東南季風經過海洋 (B)夏季西北季風經過海洋  
(C)冬季東南季風經過海洋 (D)冬季西北季風經過海洋
20. 請問在羽田機場發生事故的民航機，根據文中敘述判斷，關於飛機的航行路線敘述何者為是？  
(A)民航機是往東北方向航行  
(B)民航機的路線是由低緯飛向高緯  
(C)機上的遊客是為了櫻花季而來  
(D)民航機最終在關東平原進行降落。

《公民科試題：共20題，每題5分》

一、單一選擇題

21. 下圖為民眾針對某議題的公投結果：

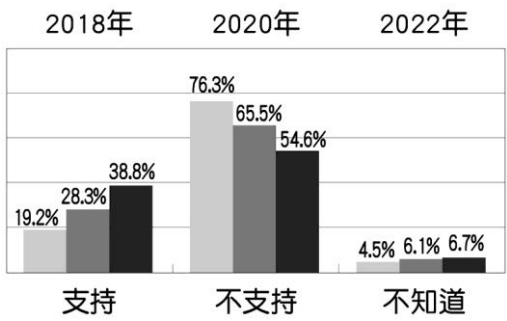


- 民眾所投的票包括同意票、不同意票、無效票，最能反映出公共意見的哪一項特性？ (A)議題性 (B)複雜性 (C)變動性 (D)影響性。
22. 我國某次直轄市市長選舉登記日第一天，大批媒體記者守候在選舉委員會外等待採訪參選人時，看見某政黨的黨主席前來登記。當他依規定辦理繳納參選保證金二百萬元的手續時，突然在媒體前表示自己沒有二百萬元，他要抗議這項規定讓選舉變成有錢人的遊戲，政府應該有所改革。根據上述內容判斷，該黨主席所提訴求的主要理由，最可能為下列何者？ (A)該項規定違反落實公平投票的平等原則 (B)該項規定有助促進不同社會階級的流動 (C)人民的人身自由受選舉法規侵害 (D)人民的參政機會受貧富差異影響。
23. 「紫絲帶運動」是一個國際性反暴力運動，自西元1994年開始推動，目前全球已有超過35個國家響應，其中個人可以採取以下方式來響應：

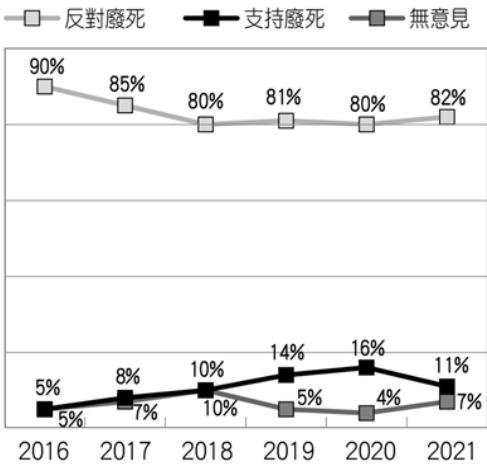
去商店買一條紫絲帶，然後繫在你家門口、你座車的天線上，或別在你的衣領、襯衫、帽子上。當你的朋友或是陌生人問起時，就告訴他們你正在為減少社會暴力、社區暴力、校園暴力以及家庭暴力盡一份心力。同時也讓他們明瞭你正將既存在我們生活中的暴力問題凸顯出來，而這些暴力問題正危害著社會。

- 民眾響應上述活動，顯示公共意見的哪一項特性？ (A)議題性 (B)影響性 (C)複雜性 (D)變動性。

24. 下圖為國人對日本福島暨周邊四縣市農產品及食品開放進口態度的三次民意調查數據：



- 由圖中內容可以看出公共意見的何種特性？ (A)複雜性、影響性 (B)複雜性、變動性 (C)變動性、影響性 (D)影響性、議題性。
25. 良懋是一名學者，附圖為他針對「是否支持廢除死刑」所進行的調查資料：



- 根據圖中內容，下列相關敘述何者正確？ (A)僅為研究調查，沒有公開討論，不具議題性 (B)支持廢死的比例逐年升高，顯示民意趨同性 (C)顯示政府的決策不會受到影響，不具影響性 (D)公共意見隨著時間而發生變化，屬於變動性。
26. 下表是歡樂國國會議員在接受遊說前後，對於甲法案的態度變化情形：

調查時間	遊說前	遊說後
支持	10%	60%
反對	10%	30%
未表態	80%	10%

- 下列何種說法最符合此表所呈現的結果？ (A)議員立法時，不應受公共意見的影響 (B)利益團體的遊說，會影響國會的立法 (C)在野黨的施壓改變議員對法案的立場 (D)媒體的協助，擴大公共意見的影響力。
27. 小宇在日記上寫下當日工作心得——

今天是忙碌的星期五，一早就召開記者會，宣布隔天請願的流程與訴求，期盼此次要參選的各黨候選人能到場簽署認同契約，願意在當選後努力參考國外措施來達成身心障礙者更友善的環境，讓身心障礙團體的訴求能夠獲得重視。

請根據日記內容，判斷該團體的相關敘述，何者正確？  
(A) 此舉可匯集社會輿論力量向政府施壓 (B)透過組織政府才能制訂出相關的政策 (C) 此活動由在野黨發起監督執政黨施政 (D)藉由民眾互動提名具有民意的候選人。

28. 利益團體為了確保團體的相關利益能獲得重視與保障，往往會設法向決策者表達意見與反映需求，以達成影響公共事務或決策的目的。下列何者屬於利益團體的作為？ (A)台灣民眾黨提名市議員候選人 (B)國道收費員自救會前往監察院陳情 (C)大政國中師生到立法院進行校外教學 (D)幸福社區舉辦生態保育講座。

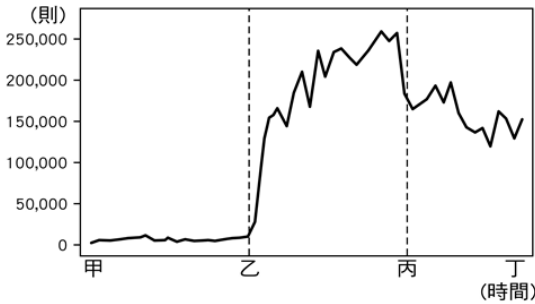
29. 我國根據選舉的各項法律規定，辦理公職人員選舉。附圖列為我國選舉的過程，請依照先後順序排列 (A)甲→乙→戊→丁→丙 (B)甲→戊→乙→丁→丙 (C)乙→甲→戊→丁→丙 (D)乙→戊→甲→丁→丙。

- (甲)政黨提名候選人，並向選務機關登記
- (乙)選舉委員會發布選舉公告
- (丙)選務機關開票，並公告選舉結果
- (丁)選民投票
- (戊)候選人展開競選活動

30. 下列四人何者可以參與我國立法委員的選舉投票？  
(A)小平 (B)鐘路 (C)清風 (D)茂安。

姓名	國籍	年齡	設籍選區	受監護宣告
小平	中華民國	19	19 年	X
鐘路	中華民國	27	6 個月	O
清風	美國	35	5 年	X
茂安	中華民國	26	10 年	X

31. 網路聲量是指運用電腦程式來分析網路社群中的大數據，計算網友討論新聞報導文章的則數，網路聲量愈高，代表討論度愈高。附圖為某一事件發生時的網路聲量走勢圖：



請從公共意見的特性判斷，下列各項分析何者正確？  
(A)該事件在甲～乙時期已塑造出公共意見 (B)在乙～丙時期可看出該事件具有議題性 (C)在丙～丁時期可判斷該事件影響性很大 (D)圖中三個時期的劃分呈現意見的變動性。

32. 某地居民不滿住家附近架設基地臺，出面發聲抗議，電信業者因此立即關掉基地臺訊號，造成當地上千人網路速度緩慢。原本聲援抗議的居民表示，這幾天沒有辦法上網，小孩大人都受不了，希望業者與政府能協助解決基地臺問題。當地里長表示將召開里民大會決定基地

臺的去留，或是請公所提供公有地來遷移。根據上述，就公共意見的特性而言，下列敘述何者正確？ (A)該公共意見尚未遍及全國，並未形成廣泛討論，所以不屬於公共意見範疇 (B)民眾的意見兩極，針對是否設立基地臺無共識，此屬於公共意見的變動性 (C)召開里民大會的目的是希望透過公共意見的形成，影響業者或政府的作為 (D)抗議的民眾先是反對架設基地臺，而後又贊成，此屬於公共意見的複雜性。

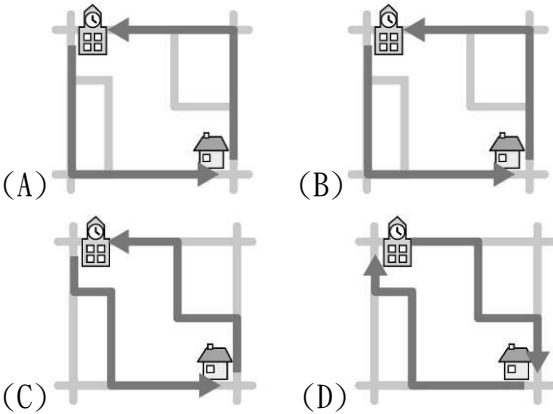
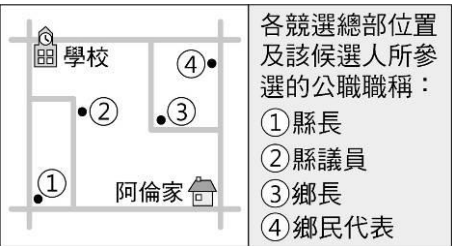
33. 附表是2021/03/04～2022/03/03的觀察分析：

時間	網路討論聲量
2021/05/13	266,082 筆
2021/05/17	212,387 筆
2022/03/03	440,812 筆

一年內三次的大停電事件，討論度最高的為「303事件」，遠高於第二高聲量的「513事件」，很大一部分原因在於受影響的民眾多、區域廣、停電時間長短不一，使得網路上的討論度居高不下。從公共意見的特性來看此份資料，哪一項在分析上較為適切？ (A)討論聲量不相等，起因於公共意見產生變動性 (B)關乎民眾生活利益，促使公共意見呈現議題性 (C)公共意見上的複雜性，拉抬停電事件的討論度 (D)政府施政激發出民意，凸顯公共意見的影響性。

34. 西元2018年全國性公投「你是否同意，以『臺灣』(Taiwan)為全名申請參加所有國際運動賽事及2020年東京奧運？」一案，引發社會熱烈討論，提案者表示，「正名」有多國前例可循，且臺灣選手在戰後歷史上也曾以臺灣名義參加奧運，希望能藉此提升臺灣選手的尊嚴；部分運動選手則表示反對，認為正名通過後可能面臨被除名、停賽的風險，對選手的參賽權益影響重大。上述過程可以發揮下列何種作用？ (A) 引發民眾關注並熟悉該議題 (B) 確認政府是否落實責任政治 (C)衡量政府施政是否得到授權 (D)檢視我國是否執行直接民主。

35. 阿倫上學途中，路過某候選人的競選總部，看到了「28歲新人，開創地方行政新氣象」的標語；放學回家，又經過另一位候選人的競選總部，懸掛著「評鑑第一名的民意代表，懇請支持連任」的布條。圖是阿倫家周邊環境示意圖，根據圖中內容判斷，下列何者最可能是阿倫上學、放學的路線？【107教育會考】





36. 甲、乙、丙三人在同一年先後將戶籍由新北市土城區遷到澎湖縣馬公市，但到了當年十二月進行地方選舉投票時，依法三人中卻只有二人具有投票資格。若僅考慮設籍時間對投票資格的影響，這三人遷入馬公市的時間最可能為下列何者？【109教育會考補考】

(A)

月分	4	5	6	7	8	9	10	11	12
遷戶籍者	甲	乙		丙					

(B)

月分	4	5	6	7	8	9	10	11	12
遷戶籍者		甲		乙			丙		

(C)

月分	4	5	6	7	8	9	10	11	12
遷戶籍者				甲			乙	丙	

(D)

月分	4	5	6	7	8	9	10	11	12
遷戶籍者						甲	乙		丙

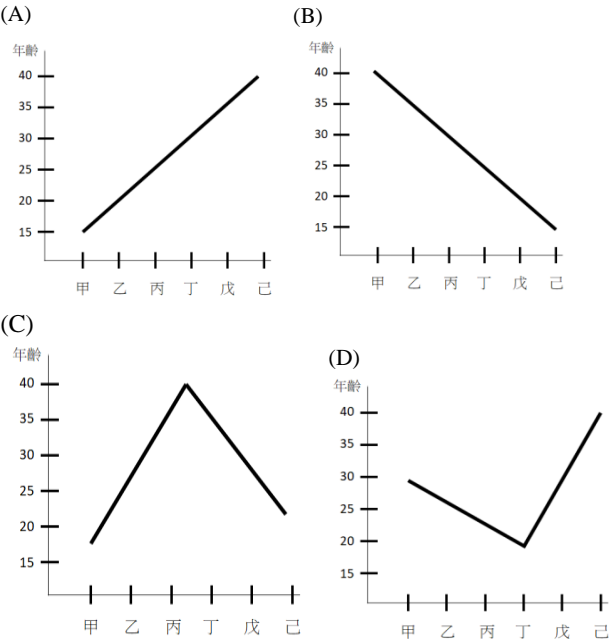
37. 表(四)呈現阿森在近三屆我國總統選舉資格的變化情形。根據表中內容判斷，阿森在第 14 屆至第 15 屆之間，最可能發生了下列哪一件事？ (A) 遭法院監護宣告 (B) 被政黨開除黨籍 (C) 遷移戶籍至其他縣市 (D) 遭法院判處褫奪公權。【111 教育會考】

表(四)

屆次	總統選舉 參選資格	總統選舉 投票資格
13	不具備	具備
14	不具備	具備
15	不具備	不具備

38. 我國在公職人員選舉及公民投票上設有年齡限制，若依照下列甲～己各項最低年齡限制的規定，依序畫出的連接線，最接近下列何者？

- (甲)參選花蓮縣縣長
- (乙)參選頭城鎮鎮長
- (丙)參選三民里里長
- (丁)公民投票
- (戊)參選基隆市市長
- (己)參選總統、副總統。



39. 戶籍地一直設在花蓮縣的泰希，今年剛滿30歲，若想要參加今年年底的地方選舉，僅依照戶籍地與年齡限制，他符合下列哪些公職人員的參選資格？ (A)甲乙戊己庚辛壬 (B)丙丁戊己庚辛 (C)丙丁戊己壬 (D)丙丁庚辛壬。

- (甲)直轄市長
- (乙)直轄市議員
- (丙)縣市長
- (丁)縣市議員
- (戊)鄉鎮市長
- (己)鄉鎮市民代表
- (庚)直轄市山地原住民區長
- (辛)直轄市山地原住民區民代表
- (壬)村里長

40. 有鑑於以往選舉活動過於密集，除了選務工作須花費大量成本外，也容易造成社會紛擾，於是我國目前採用每隔兩年交錯的原則，分別辦理中央層級與地方層級公職人員的選舉。根據表(八)內容判斷，以民國107年九合一地方公職人員選舉為例，「✓」代表可領取該項選舉選票，若小華具有此次選舉的投票權，下列何者是他依法可能領取的選票組合之一？ (A)甲 (B)乙 (C)丙 (D)丁。【110教育會考】

表(八)

選票組合	直轄市市長	直轄市市議員	縣長	縣議員	縣轄市市長	市民代表	山地原住民區區長	山地原住民區區民代表	里(村)長
甲	✓	✓	✓	✓	✓	✓	✓	✓	✓
乙			✓	✓	✓	✓	✓	✓	✓
丙	✓	✓							✓
丁					✓			✓	✓

### 《歷史科試題：共20題，每題5分》

#### 一、單一選擇題

41. 十八世紀，馬加爾尼使節團曾來華謁見清朝皇帝，但最後結果卻不歡而散。請問針對此一事件的敘述，何者正確？
- (A)當時正值雍正皇帝在位期間
- (B)該使節團主要由美國派遣來華交涉
- (C)主要目的是為了交涉通商問題
- (D)最後因簽訂不平等條約而產生衝突。
42. 在鴉片戰爭之前，『公行』是乾隆時期的通商限制下的組織，而外商只能透過中國商人合組的公行進行交易，不准直接與官方往來，因此行商們聯合起來壟斷中西商貿的溝通管道，並訂定規範與流程，收取會員費。這些組織從清朝時期興起，持續到《南京條約》簽訂後才逐漸沒落。請問這些與西方貿易溝通管道的『公行』大多位於地圖中的何處？
- (A)甲
- (B)乙
- (C)丙
- (D)丁。



43. 某段史料記載清廷某大臣諫言：「……數十年之後，中原幾無可以禦敵之兵，且無可充餉之銀。」以上諫言是分析『鴉片』流通後的可怕後果。請問：當時接受此諫言的是哪位皇帝，而當時他做了什麼樣的決策？  
 (A)道光皇帝，派遣專人查禁鴉片。  
 (B)咸豐皇帝，拒絕英國的修約要求。  
 (C)同治皇帝，成立總理各國事務衙門。  
 (D)光緒皇帝，推行維新運動主張變法。
44. 歷史老師上課時說道：「如果簽訂這個條約，若將來有其他國家與中國簽訂不平等條約，英國都能因此援例同享。喪失權利給一個國家便等於喪失給所有簽訂此條款的國家，對中國的危害著實不小。」請問：這是指外國取得什麼權利？  
 (A)協定關稅 (B)租界  
 (C)領事裁判權 (D)片面最惠國待遇。
45. 1997年7月1日，中華人民共和國國旗和香港特別行政區區旗，在香港徐徐升起，中國政府正式對香港行使主權，意味著經歷英國百年統治的香港即將轉換統治政權。請問香港是在哪一個條約割讓給英國統治？  
 (A)南京條約 (B)天津條約  
 (C)馬關條約 (D)辛丑和約。
46. 阿土是山東義和團的成員之一，平常與團員們藉由練習揮拳，一起念咒、畫符降乩，祈求神明降身，以達刀槍不入。請下列哪段話可能是義和團的行動宗旨：  
 (A)反清復明 (B)崇洋媚外  
 (C)扶清滅洋 (D)師夷之長技以制夷
47. 中國認識到西方的船堅砲利為中國所不及之後，發現西方國家的確有值得學習之處，於是展開了富國強兵的自強運動。請問：下列哪些選項屬於自強運動中的改革內容？（甲）興建鐵路（乙）成立總理各國事務衙門（丙）派遣留學生赴國外學習（丁）成立北洋艦隊（戊）成立京師大學堂  
 (A)甲乙丙丁 (B)甲丙丁戊  
 (C)甲乙丙戊 (D)乙丙丁戊。
48. 以下附表是外國在華設廠數量和資本額情況表。請問：在1894-1913 年間，中國地區外國設廠的數字大幅成長原因為何？  
 (A)自強運動招商成果豐碩  
 (B)清朝採出口導向發展輕工業  
 (C)馬關條約允許日本在通商口岸設廠，其他國家援例享有  
 (D)朝貢貿易的體制所致
- | 西 元       | 設立工廠數 | 設立時的資本額(千元) |
|-----------|-------|-------------|
| 1840-1870 | 7     | 2,802       |
| 1870-1894 | 16    | 4,829       |
| 1894-1913 | 136   | 103,153     |
49. 日本十九世紀中期開始，受到美國的武力威脅而開港通商，該國政局也開始有所改革，推行明治維新運動，日本國力逐漸增強，並開始對周圍國家或地區逐漸嶄露其野心。請問以下日本擴張之重要事件，請依時間先後順序排列：（甲）併吞朝鮮（乙）併吞琉球（丙）殖民臺灣（丁）擊敗俄國  
 (A)甲乙丙丁 (B)丁丙甲乙  
 (C)丙丁乙甲 (D)乙丙丁甲
50. 自強運動與戊戌變法皆為清末重要改革運動，試比較兩者，選出正確的選項：  
 (A)自強運動是制度層次的改革，戊戌變法是器物層次的改革  
 (B)自強運動是由皇帝主導改革，戊戌變法是太后主導的改革  
 (C)兩者皆因戰爭而推動改革  
 (D)兩者皆受到守舊派人士的大力支持。
51. 有人形容，這場戰爭就像小型的世界大戰。當時很多國家的聯軍先佔領了天津，並沿著鐵路向著北京出發。聯軍禁入北京城後，太后帶著當時的皇帝喬裝逃跑，並派大臣與列強議和，軍事行動才停止下來，並簽訂了影響中國甚鉅的辛丑和約。請問辛丑和約最重大的影響是什麼？  
 (A)國防與財政上的損失 (B)中國領土的割讓  
 (C)關稅自主權的喪失 (D)司法主權的喪失
52. 阿明是清末時期的傳統讀書人，正所謂十年寒窗苦讀，自幼苦讀四書五經，為的就是希望在科舉中能夠金榜題名，一舉成名天下知，光耀門楣。沒想到清末的一場改革運動，宣布隔年即將廢除中國實施了一千多年的科舉制度，讓阿明忽然失去了人生重要的目標。請問以上敘述指的是哪一場清末改革運動？  
 (A)戊戌變法 (B)立憲運動  
 (C)庚子後新政 (D)明治維新。
53. 承上題，阿明失望之餘，對於滿清的現況充滿質疑，因此開始接觸西學。適逢□□戰爭結束，民間多有憲政體制的支持者大力鼓吹，促使讓清廷願意推行立憲運動，讓阿明的內心在支持改革與不改革之間搖擺不定。請問□□應填上什麼戰爭？  
 (A)英法聯軍 (B)甲午戰爭  
 (C)八國聯軍 (D)日俄戰爭。
54. 阿新是光緒年間清末時期住在上海的中國人，他可能會過著什麼樣的生活，下列何者為非？  
 (A)與好朋友嘗試用刀叉吃西餐  
 (B)翻閱萬國公報，知悉國內外大事  
 (C)家中姊姊向父母爭取就讀女學堂  
 (D)家裡的電視，成為街坊鄰居好奇的新事物
55. 「俄羅斯，自北方，包我三面；英吉利，假通商，狠比豺狼。法蘭西，占廣州，窺我西南；德意志，據膠州，虎視東方。新日本，取臺灣，再圖福建；美利堅，也想要，割土分疆。這朝廷，若再不，醒獅怒吼；這中國，必將是，種族滅亡。扶清廷，救危亡，你我肩挑；改政教，新制度，國運綿長。」請問：短文中清廷面臨的瓜分危機，主要是在哪一場戰爭後發生的事情？  
 (A)鴉片戰爭 (B)英法聯軍  
 (C)甲午戰爭 (D)日俄戰爭。

## 二、題組題

(一)請閱讀以下兩則資料：

資料一：蘇州北河和黃浦江交會處的外灘花園是英國人在上海建造的第一個『公園』，實際上也是中國出現的第一個公共花園。西元1864年英國領事館向上海道臺提議和申請，認為上海已經開放多年，旅遊上海的僑民與日俱增，而上海卻沒有一個可供外人休息和遊樂的場地，因此希望上海道臺可以允許，由工部局出資將上海的淺灘填平後改建為花園，既可以保障水上航運的暢通及安全，也可以為旅遊上海的西人提供遊樂的場所。——摘自薛理勇，《舊上海租界史話》

資料二：英租界的畫定給上海帶來倫敦風，公園作為公眾文明的休閒場所和都市的公共空間，逐漸散布在租界的各處。然而，最初的公園雖然寫著『公』字，卻只專供西洋人享用，所謂的公共花園其實是『外國公園』，生活在同一租界區內的中國人被排除在外，直到1928年，租界公園才真正成為都市大眾刻意共同享用的綠色空間。——摘自陳祖恩，《上海老城記》

56. 根據上述資料所述，上海的公園最早的設立目的為何？  
(A)用來提供給上海的所有居民娛樂休閒享用  
(B)用來作為清代官方設立之公共設施  
(C)用來作為上海租界區特色設施  
(D)用來作為上海地區西方人遊樂的場所
57. 清末時期，中國許多地方出現「租界區」，在「租界區」內出現許多特殊的現象，與其他多數地方差別很大。就你所知下列哪個現象，會對當時的清朝政府管理上造成最大的困擾？  
(A)自來水、電話、電燈等設備的出現  
(B)傳教士在此進行宣教  
(C)各國辦理銀行，推動商業貿易  
(D)中國在此無法有效管轄外國人。
58. 承上題，從西元1845年以來，隨著外國商人紛紛擁入「租界區」，開始興建房屋開設商行，各式矗立的洋樓成為本地居民眼中的奇景，洋房中寬廊敞窗，樣式奇異，玻璃窗晶瑩剔透，宛如水晶宮一般，展現出一番新氣象。請問「租界」最有可能位於哪一類型的地區？  
(A)內陸驛站周圍  
(B)沿海通商口岸一帶  
(C)綠洲都市附近  
(D)內陸黃河流域周邊。

(二)、請閱讀以下資料：

『慈禧太后在中國歷史上沒有第二人，在世界歷史上也絕無僅有。她不僅在上世紀後半葉統治了大清帝國，她的統治推遲了大清帝國的滅亡，她還把中國政治家們所能想到的某些改革措施也付諸實踐了。和滿族的其他婦女相比，她可謂鶴立雞群，出類拔萃。和其他民族的婦女相比，她同樣毫不遜色。就性格的堅強和能力而言，她和任何人相比都不差。我們不由自主地欽佩這個女人，她小時候在家裡幫母親幹雜活，後來被選入宮做了個『貴人』；她是一個皇帝的生母，一個皇帝的妻子，她立了一個皇帝，她還廢了一個皇帝，她統治了中國將近半個世紀——而所有這些都發生在一個婦女沒有任何權利的國度。說她是十九世紀後半葉最了不起的女人，這不算是誇張吧？』——摘自美國傳教士 I. T. 赫德蘭所著的《一個美國人眼中的晚清宮廷》

59. 從上述資料中可以發現，當年傳教士表示慈禧太后的掌權，在一個婦女沒有任何權利的國度，是多麼地令人詫異，並稱讚她是個了不起的女人。請問傳統中國對於婦女有著什麼樣的觀點與主張？  
(A)男主外，女主內 (B)鼓勵婦女接受新式教育  
(C)主張放足解纏 (D)強調男女平等。
60. 有關於「慈禧太后」的敘述，何者正確？  
(A)她始終盡心輔佐光緒皇帝  
(B)她雖然反對改革，卻也曾推動革新運動  
(C)她是百日維新的主要倡導者  
(D)她是促成日俄戰爭主要推手

【試題結束, 請再仔細檢查一遍喔！

祝大家 考試順利】

112學年度地理科八年級段考解答

1	2	3	4	5	6	7	8	9	10
B	A	B	C	A	A	D	B	C	B
11	12	13	14	15	16	17	18	19	20
A	C	D	B	B	D	C	A	D	D
21	22	23	24	25	26	27	28	29	30
B	D	A	B	D	B	A	B	C	D
31	32	33	34	35	36	37	38	39	40
B	C	B	A	C	B	A	D	C	C
41	42	43	44	45	46	47	48	49	50
C	D	A	B	A	C	A	C	D	C
51	52	53	54	55	56	57	58	59	60
A	C	D	D	C	D	D	B	A	B