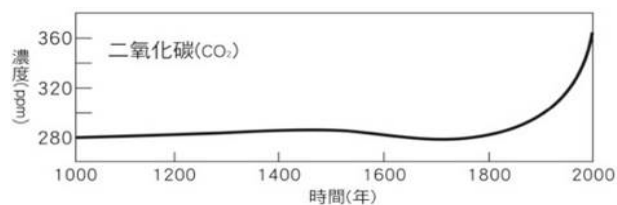


《地理科試題：共20題，每題5分》

一、單一選擇題

1. 圖(一)為近千年來全球二氧化碳濃度的變化情形。從圖(一)可看出：自1800年後二氧化碳的濃度極具上升，與下列何者有關？

(A)人類開始大量使用石化燃料
(B)過量抽取岩層中的地下水
(C)廣泛使用氟氯碳化物
(D)大量造林增加植被覆蓋率。



圖(一)

2. 全球暖化導致海平面上升，造成太平洋諸多國家或地區的人民無家可歸或是有家歸不得。關於大洋洲中珊瑚礁島國的敘述，下列何者正確？

(A)土地面積比火山島來得大
(B)平均海拔高度可達3000多公尺
(C)當地居民大多從事捕漁的相關職業
(D)最具代表性的島嶼為夏威夷島。

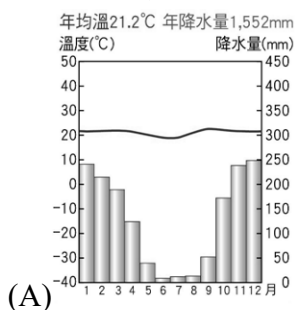
3. 紐西蘭因有豐富的自然、地形景觀，因此獲得「活的地形教室」的稱號。請問下列關於紐西蘭南、北島地形主題的敘述，下列何者正確？

(A)北島受板塊拉張的影響，中間有地塹地形
(B)北島地處低緯，擁有大面積的石灰岩地形
(C)南島東側因背西風，故氣候乾燥形成沙漠
(D)南島因地處高緯，海岸線可見峽灣地形。

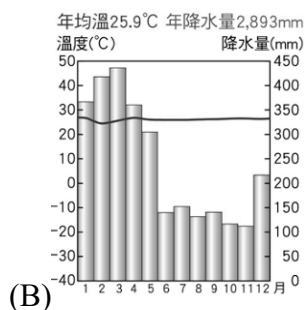
4. 大洋洲主要分為玻里尼西亞、密克羅尼西亞、美拉尼西亞等，請問將太平洋的島國分為三區的劃分依據，分別是哪兩條線？

(A)經度180度、赤道
(B)經度180度、南回歸線
(C)本初經線、北回歸線
(D)本初經線、赤道

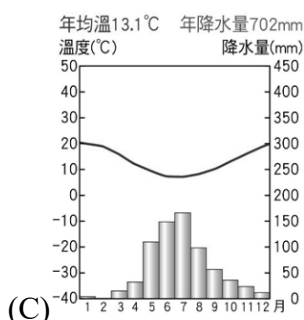
5. 亞馬遜是世界上面積最大、最完整的自然雨林，佔地260萬平方公里，橫跨南美洲9個國家，其中高達60%的面積位於巴西。請問亞馬遜與林所處的環境與下列哪一張圖最相符？



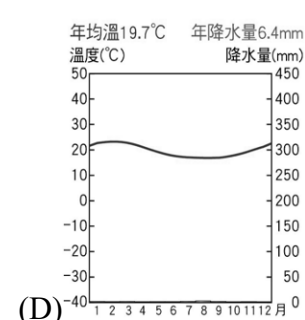
(A)



(B)



(C)



(D)

6. 承第5題，亞馬遜雨林對於調節全球氣候具有關鍵作用，若失去它，高達900億噸的X氣體將被釋放至大氣，相當於全球數年的排放量，控制地球升溫的任務將更形艱鉅，全球氣候將會隨之改變。請問該氣體應為下列何者？(A)臭氧 (B)水氣 (C)甲烷 (D)二氧化碳

7. 圖(二)為美國某一電動車大廠的設立充電站在分布圖，對照圖(三)來看，下列關於選項的分布密度的說明何者正確？

(A)甲區位於北美大平原，糧食充足人口眾多，故充電站分布密度高
(B)乙區為美國新興工業區，吸引墨西哥裔移民移入，故充電站分布密度高
(C)丙區因位於美國早期工業帶，目前因工業區老化，故充電站分布密度低
(D)丁區有高科技產業與電影工業，人口眾多居美國前茅，故充電站分布密度高



圖(二)



圖(三)

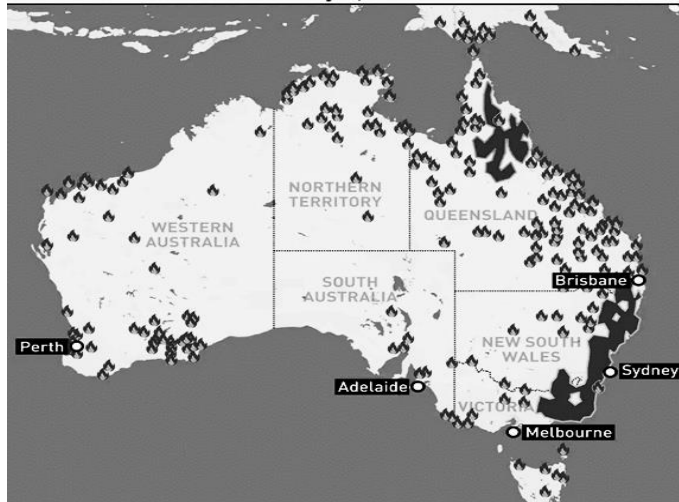
二、題組題

(一)8.-15. 題組題

2020年澳洲面臨幾十年來最嚴重的森林大火，燃燒面積比往年大了20多倍，圖(四)中火焰的符號為森林大火的地點。目前為止，大火造成至少多人死亡，2000房屋被毀，63000平方公里面積森林被燒毀。

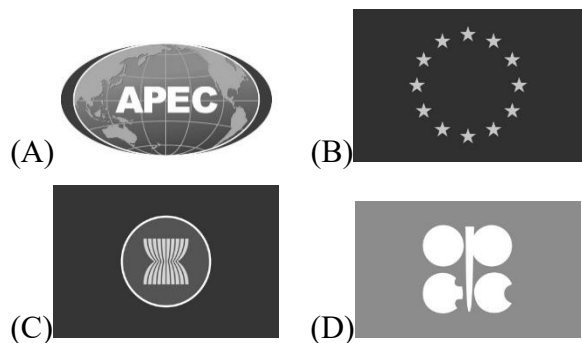
此外，森林大火也對動物群落產生影響。如無尾熊是澳洲特有的國寶級動物，近年來卻因叢林大火、乾旱及疾病等原因造成棲地消失，生存面臨危機。而澳洲相關的產業也因森林大火受到嚴重的破壞，如不少澳洲的葡萄莊園和酒廠就遭到焚毀，使得當年澳洲出口至他國葡萄酒的數量低於平均值。

Australian wildfires: January 6, 2020



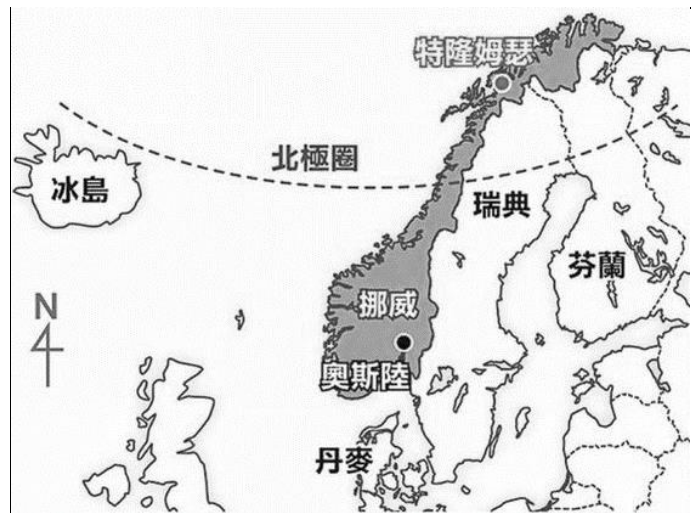
圖(四)

8. 由圖(四)中得知，澳洲西部地區森林大火發生地點最低，請問主要的原因為何？
 (A)地處高緯蒸發不盛，降水稀少
 (B)位於大分水嶺東側迎風，風勢強勁
 (C)受副熱帶高壓籠罩影響，當地植被稀少
 (D)位於環太平洋火山地震帶內，地質活動頻繁
9. 由圖(四)中得知，位於布里斯班(Brisbane)、雪梨(Sydney)等地出現森林大火，蔓延的範圍廣大並造成當地天然林地的浩劫。請問：當地居民皆期望下列何種風向於此時帶來水氣，協助撲滅這場森林大火？
 (A)東南信風 (B)東北季風
 (C)西風 (D)東北信風
10. 無尾熊是澳洲特有的國寶級動物，近年來卻因叢林大火造成棲地消失，數量銳減下整個族群的存亡飽受威脅。澳洲政府11日宣布，澳洲東部的無尾熊將從「易危物種」升級為「瀕危物種」。請問無尾熊僅在澳洲觀賞到的原因為何？
 (A)面積廣大 (B)氣候乾燥
 (C)地塊古老 (D)位置孤立。
11. 一般而言，南北半球適合生產葡萄酒的緯度皆介於30°到50°之間，超過這個範圍，葡萄便可能有水源、光線等生長環境問題而無法生長。近年來，一些緯度偏高或偏低的地區也開始加入生產葡萄酒的世界了，這些產區被稱為「新緯度葡萄酒」，請問造成「新緯度葡萄酒」產區增加的原因為何？
 (A)颱風侵襲 (B)全球暖化
 (C)海平面下降 (D)臭氧層破洞。
12. 承12題，地理老師如果想要嘗試「新緯度葡萄酒」中的「高緯度葡萄酒」，應該選擇以下哪一個產區的葡萄酒？
 (A)義大利 (B)挪威 (C)泰國 (D)印度。
13. 「飛行釀酒師」是一個特別的行業，他們搭乘飛機穿梭在全球各地的葡萄園提供技術指導，尤其是在秋季葡萄採收時最為忙碌。某一釀酒師在澳洲葡萄採收的季節前往該國協助，則他在澳洲停留的月分最可能為下列何者？
 (A)1、2月 (B)3、4月 (C)6、7月 (D)9、10月。
14. 承13題，「飛行釀酒師」最有可能來到澳洲哪一個葡萄園酒莊進行技術指導？
 (A)布里斯班(Brisbane) (B)雪梨(Sydney)
 (C)墨爾本(Melbourne) (D)阿德雷德(Adelaide)。
15. 2020年澳洲曾與中國於新冠肺炎起源的問題有所爭執，兩國外交關係因此交惡，雙方築起貿易壁壘，中國對澳洲的葡萄酒課以重稅。隨著2023年中、澳關係趨緩，澳洲外長在出席某一會議時提到：未來兩國將會彼此放寬雙方產品的限制。請問澳洲外長有可能參加哪一個會議時與中國相關行政官員進行貿易談判？



(二)16.-20.

挪威的特羅姆瑟(Tromsø)位居北緯69度多、近70度的地方，是挪威在北極圈內最大的城市，也是通往極地的門戶，過去極地很多科學研究都會在這裡停留補給，所以也被稱為「極地之門」。請依據圖(五)的內容回答

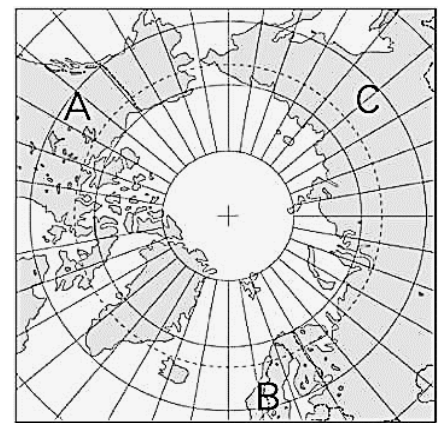


圖(五)

16. 請問：挪威特羅姆瑟(Tromsø)應為於歐洲大陸四大半島中的哪一個？
 (A)伊比利半島 (B)巴爾幹半島
 (C)義大利半島 (D)斯堪地那維亞半島
17. 圖(六)為挪威特羅姆瑟(Tromsø)民宅景觀，其雙斜式的屋頂和下列哪一項環境特徵最有關？
 (A)冬季積雪 (B)日照不足
 (C)海水面上升 (D)針葉林廣布。



圖(六)



圖(七)

18. 「北極航道」指通過北極海的海上航道，可縮短海上貿易的距離。近年來因全球暖化、部分海冰融化影響，海運價值提升。挪威因位於北極圈經內，挪威所處的北極航道應位於圖(七)中的哪一段？
 (A)西北航道的A區 (B)東北航道的B區
 (C)東北航道的C區 (D)西北航道的B區。
19. 挪威的特羅姆瑟(Tromsø)在每年固定一段時間會出現永夜的現象，即使在中午時分依然見不到太陽，在這樣的環境下，難免對接近極圈或極圈內的人們心情造成不小的影響。請問造成特羅姆瑟(Tromsø)永夜現象的原因為何？
 (A)地勢較高 (B)氣候寒冷
 (C)地球自轉 (D)地軸傾斜。
20. 承上題，請問挪威特羅姆瑟(Tromsø)的永夜，主要出現在每年哪一段時間？
 (A)11月~隔年1月 (B)2月~4月
 (C)5月~7月 (D)8月~10月。

《公民科試題：共20題，每題5分》

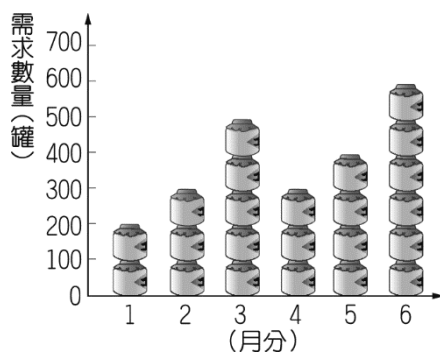
一、單一選擇題

21. 圖（一）為小江在面臨新工作機會時的選擇情況，若小江僅依薪資高低選擇薪資最高的工作，根據圖中內容判斷，甲、乙、丙工作的薪資高低關係為下列何者？(A)甲>乙>丙 (B)甲>丙>乙 (C)丙>甲>乙 (D)丙>乙>甲。

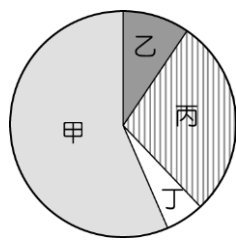


圖（一）

22. 海綿寶寶家每個月第一天自製500罐水母果醬販售，且為保持產品品質，當月沒賣完的產品就會銷毀，絕不在下個月販售。圖（二）為上半年消費者對海綿寶寶家自製水母果醬的需求數量圖。根據圖中資料判斷，海綿寶寶家的水母果醬上半年銷售總量為多少罐？(A) 2,100 (B) 2,200 (C) 2,300 (D) 2,400。



圖（二）



圖（三）

23. 比奇堡公司在銷售報告中提到，美味蟹堡的販售所得利潤高於生產成本，而生產成本中又以薪資最高，土地租金最低。若圖（三）為銷售報告中該產品的銷貨收入比例圓餅圖，根據上述內容判斷，薪資成本應標示於附圖中哪一區塊？(A)甲 (B)乙 (C)丙 (D)丁。
24. 海綿寶寶介紹其工作內容時表示：「近來因國際投資客將大筆資金投入我國金融市場，使得新臺幣相對美元大幅升值，為避免過度升值對我國出口貿易產生不利影響，我們將會適時介入影響新臺幣的匯率、控制貨幣數量，以維持物價的穩定。」下列何者最有可能是海綿寶寶任職的政府機關？(A)公平交易委員會 (B)經濟部 (C)臺灣銀行 (D)中央銀行。
25. 某KTV為吸引消費者入場，因此設計新的費率，如表（一）所示。請問該店家設定表中唱歌費率所運用的經濟學概念，與下列何者最相似？

時段	早場	午場	晚場
收費金額	269 元	319 元	469 元

表（一）

- (A) 物價持續上漲，貨幣價值降低 (B) 慶祝門市全新開幕，全店買一送一 (C) 提高銷貨收入，增加公司利潤 (D) 蔬菜價格下跌，農民種植意願降低。
26. 臺灣自開放邊境後，韓國旅客來臺成長最為快速，2023年第1季來臺14.8萬人次，是排名第1的客源國。交通部觀光局於首爾觀光推廣活動，邀請《魷魚遊戲

》演員擔任臺灣觀光代言人，以吸引韓國人來臺旅遊，但在宣傳活動的某段期間，因匯率劇烈波動，反而導致當時韓國人來臺旅遊人次呈現負成長。上述觀光局作法所希望影響的消費行為因素，與該段期間匯率變化的情況，最可能為下列何項組合？(A)預期心理、新臺幣相對韓幣升值 (B)預期心理、新臺幣相對韓幣貶值 (C)個人偏好、新臺幣相對韓幣升值 (D)個人偏好、新臺幣相對韓幣貶值。

27. 下表是百變怪分別在不同日期看到的歐元兌換價格。根據表（二）中內容判斷，比較2023年1月1日與2024年1月1日，其匯率變化最不可能造成下列何種影響？

2023 年 1 月 1 日		2024 年 1 月 1 日	
幣別	兌換價格	幣別	兌換價格
1 歐元	32.89 元新台幣	1 歐元	33.87 元新台幣

表（二）

- (A) 法國自臺灣進口的商品漲價 (B) 臺灣出口至法國的商品降價 (C) 德國民眾前往臺灣旅遊的意願提高 (D) 臺灣民眾前往德國旅遊的意願降低。
28. 2018年台灣進口原油總計3.22億桶，其中，向科威特進口20%的原油。某公司定期以新臺幣兌換成科威特幣別後，向該國進口石油。圖（四）是該公司的兌換紀錄，圖中顯示：「在不同時間點，以1科威特第納爾兌換新臺幣的比率」若僅根據圖中內容判斷，並以新臺幣為衡量單位，甲、乙、丙、丁四個時間點，何者的進貨成本最低？(A)甲 (B)乙 (C)丙 (D)丁。



圖（四）

29. 承上題，若僅根據上圖資訊判斷，在甲、乙、丙、丁四個時間點，請問何時的台灣油價應該在最高點？(A)甲 (B)乙 (C)丙 (D)丁。
30. 小蝸統整政府對勞工權益的法律保障，如表（三）所示，根據表中的內容判斷，下列何者敘述錯誤？

	勞動基準法	就業保險法
目的	(A) 保障勞工基本權益	(C) 促進兩性地位實質平等的精神
規定	(B) 規範工資、工時、休假、職災補償與退休等	(D) 職業訓練生活津貼、失業已府等給付保障等

31. 「近年因需求提升，無酬照護勞動被『商品化』為市場經濟的一部分，據估計從2012年到2022年，全球照護經濟產值會成長70%。但在家庭中從事照護工作者，例如照顧家人生活起居、培育下一代等，其貢獻往往被忽略，未能得到市場合理的對待。」根據上述內容判斷，下列敘述何者正確？(A)家中照護工作者屬於市場勞動力 (B)無酬照護勞動比有酬勞動更有價值 (C)家中照護工作者有獲得報酬 (D)無酬照護勞動商品化後，將成為有酬勞動。

32. 報導顯示：「台灣每年耗費於吸菸及二手菸相關疾病的醫療資源約是650億元，若能調漲菸價、減少吸菸人口，不僅可以降低醫療耗費，更能促進人民健康。」請問：根據上文畫底線處判斷，政府透過調整香菸價格達成降低國人吸菸人口比例的方式，為何項誘因的展現？(A) 正項誘因、金錢誘因 (B) 正項誘因、非金錢誘因 (C) 負項誘因、金錢誘因 (D) 負項誘因、非金錢誘因。

二、題組題

◎題組一

阿根廷在經歷數十年來反覆出現債臺高築、財政管理不善和貨幣震盪的金融危機後，目前正在高達3位數的通貨膨脹率下苦苦掙扎。

對此，經濟學家認為，高通膨歸咎於當局大舉印製鈔票，以及民眾對阿根廷披索始終缺乏信心。

事實上，阿根廷曾得益於穀物與肉類出口，躍升全球最富裕國家之一。但隨著民粹主義崛起、政變頻繁，當局又為討好勞工階層，因此拋棄自由貿易。這導致，過去半世紀以來，國家經濟迅速衰敗，並陷入財政赤字上升、低成長、高失業率、高通膨循環的長期停滯性通膨。

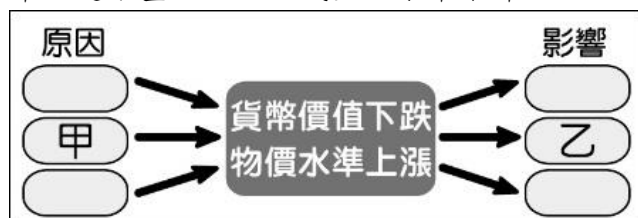
阿根廷極右派自由主義經濟學家米雷伊 (Javier Milei) 當選總統後，誓言以「休克療法」來拯救經濟，宣布將將官方匯率下調至1美元兌800披索，等於阿根廷披索貶值54%，並公布一系列削減開支的措施，包括削減政府裁員與減少對雇傭者的保護。

然而，披索貶值導致惡性通膨更為嚴峻，主食價格漲幅50%，已有民眾不滿物價飆漲而走上街頭抗議。經濟學家認為，這項措施對於解決阿根廷長期金融問題有其必要性，但若缺乏足夠的安全網，社會中最貧困的人恐將難以存活，不見得能撐到國家經濟恢復正常的那一天。

【改寫自：自由財經／阿根廷10月通膨暴增至142.7% 創32年新高／2023.11.15】

請根據上文回答下列問題。

33. 請問：阿根廷通貨膨脹的原因與下列何者最無關聯？
(A) 政治面：政變頻仍，局勢不穩定 (B) 經濟面：政府欠債，財政管理不善 (C) 社會面：失業率高，對貨幣缺乏信心 (D) 原料面：缺乏原物料，無優勢商品可出口。
34. 若欲以下圖解釋阿根廷遭遇的困境，下列何者配對最為正確？(A) 甲：政府持續大量發行貨幣，乙：人民生活水準上升 (B) 甲：政府持續大量發行貨幣，乙：人民生活水準下降 (C) 甲：政府減少貨幣流通數量，乙：人民生活水準上升 (D) 甲：政府減少貨幣流通數量，乙：人民生活水準下降。



35. 請推論：通貨膨脹對阿根廷造成的影響為何？(A) 物價上漲幅度高 (B) 人民儲蓄意願提升 (C) 貨幣購買力上升 (D) 消費能力上升。
36. 請問：新任總統米雷伊提出的「休克療法」預期可帶來何種成效？(A) 削減開支可降低政府支出，增加財政赤字 (B) 匯率調降有利出口，賺取貿易收入 (C) 匯率調降有利進口，可增加國際貿易 (D) 削減

開支恐使人民生活更加缺乏保障，不利國家穩定。

37. 請問：「休克療法」可能造成何種困境不包含下列何者？(A) 惡性通膨更為嚴峻 (B) 弱勢人民無法生存 (C) 肉類出口量降低 (D) 社會更加不穩定。

◎題組二

泰國每年製造約420萬噸的海鮮，《衛報》採訪的奴工提到他們每天只能吃一小盤白米，在船長下達工作命令前，男奴們會爬進狹窄的睡眠處斷斷續續的補眠，身體狀況不佳無法工作的奴工會被丟進海中，留在船上的奴工則可能遭受毆打。

《人權觀察網》表示：「過度捕撈的動機並不是因為關心漁民福利，每天18到22小時的工時和肉體折磨就可以讓奴工們持續地工作，因為重點在於取得最多的漁獲與維持利潤。」

2009 年，一項由聯合國反非法人人口交易機構所做的調查，發現59%的移工都提到，他們曾親眼目睹同僚被謀殺的慘況。

聯合國糧食與農業組織表示，泰國政府無法透過立法趕上漁業的發展程度，從原先本國勞工到近年透過外國移工補足人力缺口。

「警方的搜查和救援起不了作用，假設你今天救了五個非法交易下的受害者，但背後卻代表著船長必須重新尋找另外五名新的工人，因此這個循環將會持續下去。泰國政府其實可以合法招募勞工而不依靠仲介，但只要產業持續依靠仲介而非政府取得人力，這個問題就永遠不會消失。」

環境正義基金會表示，漁業奴役行為在泰國是個公開的秘密，政府與許多廠商皆參與交易。

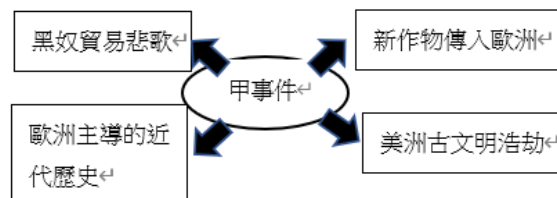
【被你我剝削的泰國奴工：20小時不停工，他若不逃跑就是在船上做到死/2014-08-22】

38. 請問下列何者並非文中提及泰國奴工遭遇的困境？
(A) 目睹同事遭謀殺的情況 (B) 缺乏足夠的食物 (C) 被迫長工時工作 (D) 因不同種族遭受歧視。
39. 根據上文，請問泰國漁工受到的對待顯示何種問題？
(A) 文化差異產生性別不平等現象 (B) 家務勞動逐漸市場化的現象 (C) 國際移工的性別失衡現象 (D) 國際移工易遭受不平等對待的現象。
40. 根據上文，下列何者並非泰國政府面臨的問題？
(A) 泰國的立法速度趕不上漁業發展的速度 (B) 政府並未正視勞力來源結構性的問題 (C) 泰國政府並不清楚漁工市場的血汗情況 (D) 警方無法透過搜救根本性解決奴工困境。

《歷史科試題：共20題，每題5分》

一、單一選擇題

41. 參考(圖一)呈現的「甲事件」發生後對於世界歷史的影響，請問有關促成「甲事件」的原因，應該為下列哪一項？



圖(一)

- (A) 蒸汽機的改良造成運輸革新 (B) 蒙古西征抵達歐洲一帶 (C) 英國移民在北美洲建立殖民地 (D) 義大利商人壟斷亞洲商品

42. 某一時期，航海家航行時，不僅依靠天文觀測，還可使用簡陋的海圖，並以羅盤定方位。他們通常是獲得王室的資助，踏上尋找新航路之旅。這類航海活動最可能是：(A)十世紀末諾曼人海上貿易活動 (B)十四世紀的阿拉伯印度洋船隊 (C)十六世紀初西班牙大西洋船隊 (D)十九世紀後期英國的遠東船隊
43. 阿瑞俄斯是雅典公民，在投票的那天，遇到一位不識字的○○走到他面前，委請幫忙在陶片上寫下「阿里斯提德」的名字，他反問對方是否認識「阿里斯提德？為何要放逐他？」。那位○○只說因為總是聽到人們說阿里斯提德「正義」，感到聽煩了，結果阿里斯提德在開票後被流放。請問：○○應該是下列何種身分？(A)自由成年女性 (B)奴隸識字男性 (C)奴隸成年男性 (D)自由成年男性。
44. 「日心說」觀點的提出，動搖了教會百年來以地球為中心的宇宙觀，請問提出「太陽為宇宙中心」的觀點，是何人提出的？(A)伽利略 (B)哥白尼 (C)培根 (D)托勒密
45. 16世紀時，歐洲人將美洲農作物傳入歐洲，舒緩了歐洲當時糧食不足的問題，而下列哪些是當時由美洲傳入歐洲的農作物？(A)茶葉、咖啡、番薯 (B)甘蔗、香蕉、馬鈴薯 (C)玉米、番薯、馬鈴薯 (D)小麥、鳳梨、馬鈴薯
46. 過去，英國政府曾希望立法禁止工廠雇用童工和女工，以避免他們受到虐待…等問題。但紡織廠的女工卻向政府陳情，要求不要立此法案。她們說：「我們在家裡已無法維生，傳統的手工織布機已被淘汰，我們只剩下這樣的謀生方式，除非政府能夠給我們找尋其他生路。」請問，按照婦女的陳情來看，請問婦女們最可能的陳情原因為何？(A)婦女認為法令無法有效保障他們在工廠的工作品質 (B)婦女認為這條法令將會剝奪她們的工作權 (C)婦女認為在工廠工作比在家工作更輕鬆 (D)婦女認為在工廠可以學到實用的技能
47. 中世紀的教會認為「浪費時間是所有罪中第一大罪和最重罪。」，人們不該將時間浪費在追求財富，認為這是邪惡的行為。後來，喀爾文提出財富是勞動的果實、是榮耀上帝的方法之一，而廣受社會的歡迎。請問：喀爾文的思想與當時社會的何種趨勢最為相關？(A)教會為累積財富，也開始販售贖罪券 (B)為了培養人才，教會開辦投資理財課 (C)越來越多貧窮的人仰賴教會救濟 (D)商業行為越來越發達。
48. 工業革命自18世紀逐漸向外傳布，影響遍及全世界。當時最早發生工業革命的地點是下圖中何處為中心向外傳播？



- (A)甲 (B)乙 (C)丙 (D)丁。
49. 「人人生而平等，上帝賦予他們若干不能出讓的權利，其中包括生命權、自由權和追求幸福的權利。為了保障這些權利，人們才建立政府組織。……任何政府一旦破壞這些權利，人們便有權將它改變或廢除，再

建立一個新政府。」上述內容最能反映出下列哪一位思想家的精神？(A)伏爾泰 (B)孟德斯鳩 (C)洛克 (D)盧梭。

50. 印第安人曾廣泛的生活於美洲大陸上，他們有自己的語言與文化，是美洲最早的居民。請問，美洲的原住民被稱為「印第安人」的原因為何？(A)歐洲殖民者最初將美洲誤認為印度 (B)他們與印度人屬同一人種 (C)印度曾經殖民過美洲 (D)殖民者將大量印度人販賣至美洲為奴。
51. 啟蒙運動跟工業革命對於近代歐洲產生巨大影響。有關兩者之間的比較，下列敘述何者正確？(A)啟蒙運動強調人文主義，工業革命強調機器動力 (B)啟蒙運動從英國開始，工業革命則以美國為先 (C)啟蒙運動的理論家有洛克等人，工業革命的參與者則以哥白尼等人為主 (D)啟蒙運動影響了近代民主政治發展，工業革命則使工廠制度出現
52. 啟蒙時期的思想家亞當斯密提出，在經濟市場上會有「一隻看不見的手」作調節。請問，依亞當斯密的看法，在經濟上會有何種主張？(A)政府完全控制 (B)政府採自由放任 (C)政府實施計劃經濟 (D)政府有條件干預。
53. 大約在夏至的這天，天狼星會和太陽同時從東方的地平線升起，意味著尼羅河的洪水馬上要到來，人民又可以從事農業，故古埃及人往往把這天當作新年的開始。請問：下列哪一個選項與上述短文最有關係？(A)我們用的太陽曆源自於埃及 (B)埃及人擅長於建造大金字塔 (C)解剖學最早可以追溯至埃及 (D)埃及法老王為太陽神化身，象徵政教合一。

二、題組題

題組一：

約 1830 年代，法國里昂紡織工人傳唱下列的歌曲
歌詞：「想要做官掌權，總得披大氅、掛綬帶。我們為你們大人物紡紗織布，死後卻不包裹屍布就草草掩埋。我們是織布工，卻赤身裸體，無遮無蓋。你們的統治行將結束，我們掌權的日子就要到來。我們為舊世界織好了裹屍布，造反的吼聲已響徹天外，我們是織工，從此衣冠整齊，有穿有戴。」請問：

54. 歌詞中有提到這群工人想要「掌權」與「造反」，是受到當時何種學派的影響？(A)資本主義 (B)帝國主義 (C)民族主義 (D)馬克思主義

題組二：

泰姬瑪哈陵是印度知名建築，也被聯合國教科文組織列為世界遺產。據傳此建築物為帝國第五代沙賈汗為了紀念已故妻子而建立的。

此帝國的建立者為成吉思汗的後裔，自 16 世紀建立後，其統治者的宗教信仰皆相同，並且以溫和的方式與國內的其他宗教共存。但近代受到外國強權的勢力逼迫後，帝國便逐漸失去對印度的控制權，西元 1858 年，帝國最後一任皇帝巴哈杜爾沙被外國強權流放。從此印度成為歐洲強權的殖民地，歐洲強權從印度得到相當大的利益，包括將印度培植的農產品銷售到各地等。

55. 上述文章中說的是哪一個帝國？ (A)鄂圖曼土耳其帝國 (B)阿拉伯帝國 (C)蒙古帝國 (D)蒙兀兒帝國。
56. 上述帝國統治者的宗教信仰為下列何者？ (A)印度教 (B)佛教 (C)天主教 (D)伊斯蘭教。
57. 文章提及培植的農產品，最有可能為下列哪些產品？ (A)甘蔗 (B)棉花 (C)胡椒 (D)大麻。

題組三：

1/26 這天是澳洲慶祝官方國慶日「澳洲日」，但成千上萬民眾今天也在澳洲各城市舉行「入侵日」示威，抗議這個日子代表英國在澳洲大陸殖民開端。

原住民已居住在澳洲大陸已 6 萬 5000 年，而英國人在 1788 年登陸澳洲後，則開始了原住民 200 多年來痛苦和受難的開端。

在示威抗議的人群中，其中一位抗議人士 Albert 說：「我的祖父就屬「失竊的一代」，是 20 世紀初期澳洲政府實行同化政策的受害者，被迫在幼時離開父母，帶往白人社區生活。當初政府的目的，是要讓他們徹底融入白人文化，忘記自己原生的語言及習俗，讓原民文化消失。

如今，每年澳洲國慶日抗議人士逐年增加，示威者也要求政府更改國慶日日期。今年抗議人士要求澳洲非原住民民眾以捐款給方式，來提供原住民賠償。

節錄自 2020 年新聞

【試題結束, 請再仔細檢查一遍喔！

祝大家 考試順利】

58. 1月26日是澳大利亞日，在1788年1月26 日，某國艦隊首次抵達雪梨，升起國旗，澳洲成為他們的殖民地。請問這個殖民澳洲的國家是何者？ (A)美國 (B)英國 (C)葡萄牙(D)西班牙
59. 文章中所提及的「失竊的一代」，導致原住民文化的消失，請問目前澳洲原住民語言的絕跡，跟下列何者最相關？ (A)英國文化水準較高，吸引原住民主動學習，並放棄傳統文化 (B)殖民者以武力、疾病與政策等方式，使原住民被迫學習英國文化，導致自身文化延續困難 (C)大量原住民被強制送往美洲充當勞動力，澳洲族群因此減少 (D)受海外探險熱潮的影響，澳洲原住民多移往亞洲貿易、居住
60. 除了澳洲抗議國慶日，鄰近的國家紐西蘭也有相關的新聞出現，甚至遠在西半球的美國，2020年也因一名非裔美籍男子，遭白人壓制脖子身亡的新聞，引發全球反種族歧視的浪潮。這三項不同的新聞事件，跟哪一種想法密切相關？ (A)強調所有人的人性尊嚴(B)強化白人至上的觀念 (C)刻板印象的顯現 (D)限制族群發展

112學年度地理科九年級段考解答

1	2	3	4	5	6	7	8	9	10
A	C	D	A	B	D	D	C	A	D
11	12	13	14	15	16	17	18	19	20
B	B	B	D	A	D	A	B	D	A
21	22	23	24	25	26	27	28	29	30
B	B	C	D	B	C	A	D	B	C
31	32	33	34	35	36	37	38	39	40
D	C	D	B	A	B	C	D	D	C
41	42	43	44	45	46	47	48	49	50
D	C	D	B	C	B	D	A	C	A
51	52	53	54	55	56	57	58	59	60
D	B	A	D	D	D	B	B	B	A