

《地理科試題：共20題，每題5分》

一、單一選擇題

1. 光榮國中的四位同學正在討論天氣與氣候的差別，請問哪一位同學最符合「氣候」的描述？

(A)文華 (B)玉詩 (C)武昱 (D)彩萍

文華：地理老師曾說天氣是一地長時間大氣平均的狀態

玉詩：出門前我看生活氣象APP顯示今天陰時多雨

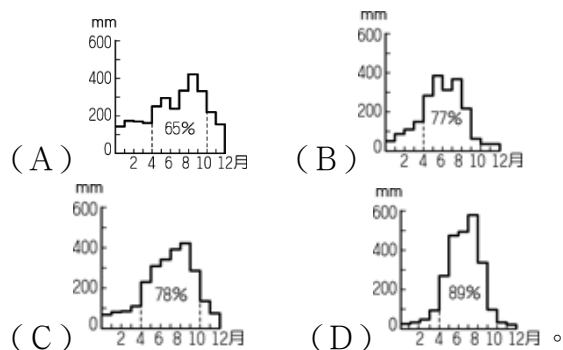
武昱：宜蘭降雨日一年有120天，應證「竹風蘭雨」俗諺

彩萍：我昨天看晚間新聞時，氣象播報員說未來幾日有寒流來襲須注意衣物的保暖

2. 元旦假期空中勤務總隊指揮中心接獲通知，有位攀登卓溪馬力加南東峰的民眾，因高山症發作無法順利下山，直升機隨即起飛前去救援。請問此為登山民眾發生高山症的原因為何？

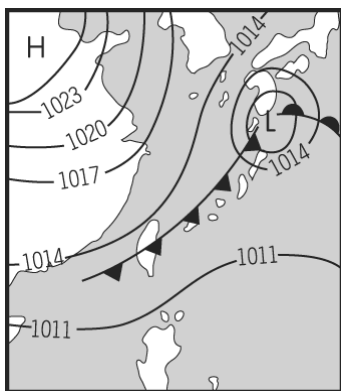
(A)氣溫低 (B)氣壓低 (C)濕度高 (D)緯度高

3. 下面四張圖是台灣北、中、南、東四區的降水量圖。從台灣的降水季節分布判斷，哪一張圖最接近東區的降水量圖？




4. 圖(一)為亞洲地區的地面天氣圖，關於圖(一)中的氣象資料的敘述何者正確？

(A)高氣壓中心主要位於太平洋附近
(B)台灣受冷氣團侵襲氣溫驟降
(C)中國南部因位於冷暖氣團交會易降下鋒面雨
(D)所有等壓線與緯線平行。



圖(一)



圖(二)

5. 圖(二)是水循環模式圖，請問：圖(二)中何項過程是屬於「蒸散」作用？ (A)A (B)C (C)E (D)F。

6. 小光利用假日來平溪開闢的土地放天燈，他發現風箏飄往東北方，可知當時的風向為何者？

(A)西南風 (B)東北風 (C)東南風 (D)西北風

7. 下列有關臺灣河川的敘述，何者正確？

(A)雪山山脈為東西向河川的主要分水嶺
(B)台灣的河川中以濁水溪的長度最長
(C)河川坡度小，水流平緩

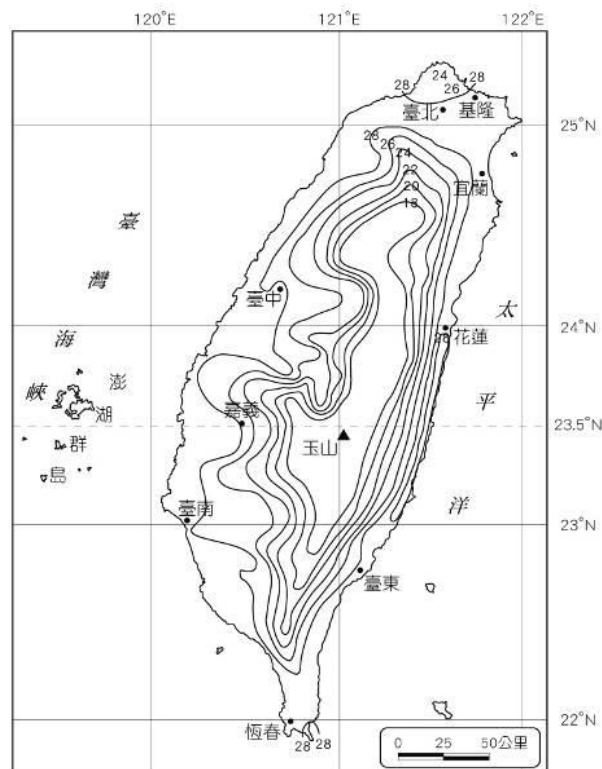
(D)蘭陽溪洪枯流量變化大

8. 11至12月份的時間，臺灣南部地區河川水位下降的幅度，往往比北部地區來得大，請問此與南部地區河川什麼特性最關？

(A)河流流速較大 (B)流域面積較廣
(C)河流長度較長 (D)季節流量變化較大

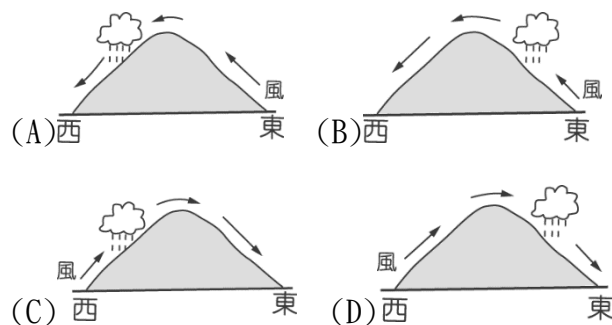
9. 圖(三)是臺灣7月的等溫線圖，根據這些等溫線排列形狀分析，下列何者敘述正確？

(A)台北和恆春溫度差異超過 10°C ，說明緯度影響甚鉅
(B)近同緯度的嘉義和玉山，受地形影響溫度差異較大
(C)7月台灣各地的溫度普遍低於 20°C ，與北回歸線經過台灣有關
(D)台灣中央山脈以東的都市溫度高於西部，與東北季風吹拂有關



圖(三)

10. 早期在台灣東北角瑞芳、平溪、貢寮、雙溪、萬里等房屋屋頂為油毛氈屋頂，其作法為：紙漿加柏油壓成的薄片板，然後鋪在屋頂上後再擦上柏油，以保護油毛氈，防止屋頂落水，如圖(四)所示。早期居民採用此種建築型態，與當地長年下雨有關，請問哪一張示意圖說明當地冬季所降下的地形雨？



圖(四)

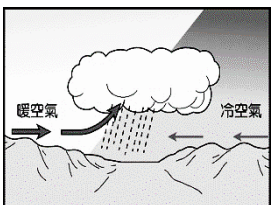
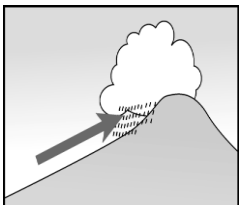

11. 水資源得來不易，在積極開發水資源的同時，也須做好水資源管理。請問：下列何項作法無助於水資源保育或開發？
(A)做好河川汙染的管控 (B)減少地表人工鋪面的面積
(C)在集水區做好水土保持 (D)地下水抽取量大於補注量
12. 新聞報導：「臺灣某地居民因超抽地下水，造成地層下陷達 2.5 公尺，造成房屋下陷一半以上、墳墓泡在水中、堤防布滿抽海水的水管，形成特殊景觀，這些也都被當地鄉公所開發為觀光景點。」文中現象最有可能出現於何處？
(A)蘭陽平原 (B)花東縱谷平原
(C)屏東平原 (D)臺北盆地
13. 下表為台灣嘉義縣鹿草鄉的氣象資料，請問下列對該地的敘述，何者正確？
(A)此地年均溫為17℃ (B)此地年雨量為460毫米
(C)此地區的年溫差為7℃ (D)此地冬季占降水比重最高

	1月	2月	3月	4月	5月	6月	7月	8月	9月	10月	11月	12月
氣溫 ℃	21	21	23	25	27	28	28	28	27	26	24	22
降水量 mm	18	25	21	36	158	374	402	461	331	116	54	26

二、題組題

(一)14.-15. 題

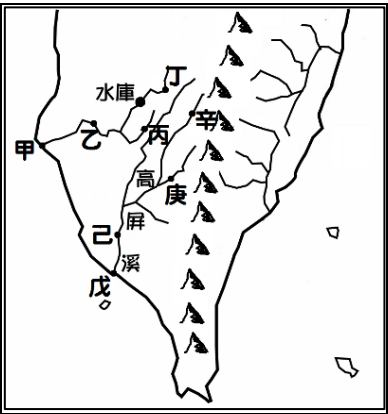
下表為三種不同的降水類型，請回答以下問題

甲	乙	丙
		

14. 「小滿梅雨在本島，種植花木皆成寶。」是在形容小滿節氣適逢梅雨季，這時種植的花草樹木成長速度較快，很快 就能長大收成。請問：諺語中所提及的降水類型應屬於下列何者？ (A)甲 (B)乙 (C)丙
15. 何者最有可能是丙降水類型的特色？
(A)綿綿細雨 (B)陰雨的時間可維持近2個月
(C)降水面積涵蓋全台 (D)多出現在夏季午後

(二)16.-20. 題

圖(五)為臺灣南部的水系分布圖，請回答以下問題：



圖(五)

16. 依照圖(五)中所示，總共有幾條水系？
(A)2 (B)3 (C)4 (D)5
17. 下表關於甲地與丙地水文特性的敘述，何者正確？
- | | |
|---------|------------|
| (A)流量 | 丙的流量多於甲 |
| (B)流速 | 甲的流速快於丙 |
| (C)地勢高低 | 甲的地勢高於丙 |
| (D)作用力 | 丙的侵蝕作用力高於甲 |
18. 若颱風從台灣經過後，所引入西南氣流帶來豪大雨，土石大量滾落至河流之中，請問甲、乙、丙、丁四處何地的水質最混濁？
(A)丁 (B)丙 (C)乙 (D)甲
19. 甲～丁四個點所在的河川源頭在嘉義縣，流域分布的範圍主要涵蓋了台南市境內，並擁有全臺灣容量最大的水庫，請問此水庫為何？
(A)翡翠水庫 (B)曾文水庫
(C)日月潭水庫 (D)石門水庫
20. 戊～辛四個點所在的河川皆位在高屏溪內，請問了解高屏溪的「流域」範圍，應以哪一個點開始劃設？
(A)戊 (B)己 (C)庚 (D)辛

《公民科試題：共20題，每題5分》

一、單一選擇題

21. 生活在富裕的國家中，人民可以享有免費的義務教育；但若是在落後國家，光三餐溫飽都有問題了，上學似乎變成一種奢望。請問上文中主要在說明學生的何種權利？ (A)生存權 (B)人格發展權 (C)身體自主權 (D)受教育權。
22. 七年級校教學時，孝周在參觀原住民博物館時，看到一段敘述是在介紹傳統原住民與土地的關係，請問應該是下列哪一句話？ (A)拓墾荒地後，再將良田土地進行轉賣 (B)部落與土地高度連結，不可分割 (C)興建都市化建築，開發土地做為觀光資源 (D)珍惜土地資源，設置工廠製造農產加工品。
23. 下列哪個法規有提到人民應有受教育的權利？ (A)《性別平等教育法》、《憲法》 (B)《民法》、《憲法》 (C)《性別工作教育法》、《刑法》 (D)《世界人權宣言》、《憲法》。
24. 原住民族於特定區域內，依其傳統規範、共同生活結合而成的團體，經中央原住民族主管機關核定者，稱為下列何者？ (A)聚落 (B)部落 (C)族群 (D)村落
25. 右圖為大學生匿名檢舉教授上課多次有開黃腔的舉動，請問以下哪個法律最能提供學生協助？
(A)《刑法》
(B)《家庭暴力防治法》
(C)《性別平等教育法》
(D)《性別工作平等法》
26. 布農族的卡度部落召開部落會議，積極推動部落傳統領域的劃設工作，針對與邵族傳統領域出現重疊爭議的土地，希望能提出新事證，以和平理性的方式進行協商、化解爭端。根據上述判斷，對於原住民族而言，部落會議主要具備了何項功能？ (A)繼承土地劃分 (B)決定部落事務 (C)學習祖先智慧 (D)尋找文化根源

匿名

大學教授上課不停開黃腔

心情 · 10月23日 12:40 (已編輯)

類的群組也一直發表非課程相關資訊

27. 七年十班正在開班會舉行模範生的選舉表決，請問依照開會規定，表決時的原則為下列何者？ (A)先提名後表決 (B)後提名後表決 (C)由主席決定順序 (D)由老師決定順序
28. 電視的綜藝節目常以協助觀眾找人作為節目的賣點，將找人過程錄製下來，加上綜藝效果成為大受歡迎的娛樂節目。有些觀眾會提供小學或中學時的同學資料，請求節目製作單位協助尋找失散多年的朋友。而綜藝節目也使使命必達，有時往往忽略了受訪者的意願。上述綜藝節目的作法可能會產生下列何種爭議？ (A)忽視受訪者的隱私權 (B)侵害受訪者的財產權 (C)妨害受訪者的學習權 (D)忽略受訪者的身體自主權。

1. 布農族的財產制度是以整個家族為單位，所有人共同繼承。
2. 太魯閣族的狩獵傳統是將捕獲的獵物平分，不因個人獵捕較多而獨占。
3. 達悟族的漁團組織，在捕獲飛魚時，會平均分配漁獲。

29. 俞真為了專題報告蒐集了相關的例子，請問根據上面內容，他準備的主題應為下列何者？
(A)與土地共生的原住民族 (B)驍勇善戰的原住民勇者
(C)重視永續經營生態保育 (D)原住民族的共享互助
30. 就讀翰林國中三年級的伊之助，愛慕長相甜美的彌豆子，為了知道更多彌豆子的消息，他偷翻彌豆子的聯絡簿和信件。請問伊之助的行為，侵犯了彌豆子的一項權利？ (A)受教育權 (B)人格發展權 (C)身體自主權 (D)生存權。
31. 在校園生活中，請問下列何者不屬於學生所能行使的權利？ (A)要求學校落實「零體罰」政策，確保學生不受任何形式之體罰 (B)尊重學生的「人格權」，不無故搜查學生的書包或翻閱學生的日記 (C)為維護學生的「受教權」，學生可以投票決定導師的人選 (D)為了讓校園環境更加良善，學生可以建議學校增加運動器材。
32. 右圖為太巴塢部落的傳說故事，從內容中得知，部落種植的紅糯米背後蘊含的意義為何？
(A)部落文化的傳承保存 (B)部落族人的互助扶持 (C)基督信仰的傳統儀式 (D)共耕共享的經濟制度
- 花蓮縣太巴塢部落的族人除了信奉祖靈外，也信仰太陽神(Ina)。傳說中太巴塢的祖先因為無法生下具人形的小孩而感到悲傷。太陽神得知後便送來裝有紅糯米的竹筒，祖先吃下紅糯米後，才生下孩子，成為阿美族的血脈。自此之後，部落家家戶戶都會種植紅糯米，族人也會自行留下種子，代代相傳。
33. 美延由於成績較差，常常被同學取笑，也沒人和他當朋友。請問身為班長的你，要如何幫助同學改善情況？
(A)請他負責班上的所以打掃工作，以討好同學 (B)為了不被他拖累成績，私下建議美延轉學 (C)試著了解他的學習狀況，給予適當協助 (D)認真學習是學生的義務，成績不好要給予重罰。

題組一：

時間：班會課

出席人數：學生 25 人 列席人數：導師 1 人

◎會議過程紀錄：

主席：現在討論的主題為班級聚餐地點，請同學踴躍發言。

魯夫：主席！我建議吃羊肉爐。

娜美：我提議麥當勞

主席：還有人要提議嗎？（此時班上有同學舉手）

（突然有一隻蜜蜂飛入教室，造成同學鬧哄哄！）

索隆：主席。我提出（甲）。蜜蜂擾亂會議的進行，我們先把牠趕出去。

主席：好，會議先暫停，請同學協助處理。

主席：我們會議繼續。對於聚餐的地點還有其他提議嗎？（同學陸續提海底撈、必勝客兩項提議）

傑克：主席。我們來討論聚餐穿班服還是便服好！

喬巴：主席。我提出（乙）。傑克的發言超出議題範圍。請依據上述內容回答下列 34-37 題：

34. 文中的(甲)指的是什麼？ (A)權宜問題 (B)秩序問題 (C)散會問題 (D)意見問題
35. 文中的(乙)指的是什麼？ (A)權宜問題 (B)秩序問題 (C)順序問題 (D)意見問題
36. 班會最後表決的結果，海底撈跟麥當勞兩項同票，此時應該如何處理？ (A)重新表決 (B)主席加入投票 (C)抽籤決定 (D)找兩個人代表猜拳決定
37. 在開班會的過程中，下列何者是導師扮演的角色？
(A)積極參與表決 (B)詳實記錄會議內容 (C)宣達會議程序 (D)散會後進行講評

題組二：

臺東縣布農族獵人王光祿為了讓年邁的母親品嚐到野味，持獵槍獵捕當時被列為野生保育動物的山羌，遭判刑三年半，最高法院認為有違憲之虞聲請釋憲。以下節錄其中一項所探討的層面：

聲請人方：獵人二字代表的是守護獵場之人，真正的獵人在狩獵的同時也會維持生物多樣性、顧及生態保育而非濫捕濫殺，原住民族文化中打獵是非常神聖的事，不會去預設打獵的目標或是要打多少數量，而現行的狩獵制度採「事前許可制」與傳統文化有相違背之處。

農委會：雖認同現行《野生動物保育法》的規定過於僵化，未來也將修法簡化程序，並與各部落進行協商，以「事前申請、事後回報」的方式確實對生物資源進行管理，也確保不會侵犯到其他部落的獵場而產生爭端。

(接續題組二)

警政署：認為不宜擴張至所有槍枝都可作為原民獵槍，原住民打獵需自製獵槍，且警政署去年已經修法，目前正在與國防部合作，未來將提供安全自製獵槍的零件給原民獵人用，讓自製與制式一樣安全，不論甚麼槍，只要納入部落管理中，再多也不是問題，但若部落之中有「黑槍」不受管理，才反而是恐懼所在。

聲請人方：原民團體已長期指出，自製獵槍並非原民傳統，早在清末原住民就持有精良獵槍，日治時期友均為制式獵槍，但是中華民國時期卻反而必須「自製獵槍」，原住民團體呼籲希望開放制式手槍而非自製；此外，人權團體也提醒，兩公約中明訂人人有權享受科學進步及其應用之惠。

《節錄 2021 新聞資料》

38. 從上文聲請人方的說法，可以看出原住民族對狩獵行為的立場為何？ (A)狩獵行為應可納入恢復部落生機的方式 (B)傳統狩獵行為不以破壞生態永續為原則 (C)無須讓過時的狩獵文化與社會進行對立 (D)狩獵行為須與時俱進才容易被族人接納。
39. 從上文農委會的立場，可觀察到政府在面對原住民族訴求時，採取哪一種作法來加以因應？ (A)發起社會運動以爭取民眾關注 (B)藉由經濟自主以落實族群自治 (C)藉由法律來強制原住民族遵守 (D)溝通時尊重部落諮商權的落實。
40. 如法院認為原住民自製獵槍，作為生活工具使用，不受刑法所處罰，判決原住民被告無罪。此無罪判決最重要之依據，應為下列何者？ (A)自製獵槍的殺傷力很有限，不屬於應受管制之槍械 (B)依原住民傳統而製作的獵槍，屬於工藝品，不受管制 (C)自製之獵槍係作為生活工具使用，其目的合法正當 (D)司法機關審判時，須積極考量維護原住民傳統文化

《歷史科試題：共20題，每題5分》

一、單一選擇題

41. 附圖描繪的是清代臺灣原住民協助官員渡溪的情景，此為政府指派給原住民的勞役項目之一，此外尚有負責開路、運糧送公文等繁雜事務。清雍正年間，有某社的原住民因不堪負荷，憤而聯合中部地區的平埔族群各社反抗。請問上述是以下哪一個事件？ (A)大甲西社事件 (B)郭懷一事件 (C)大肚王反叛事件 (D)麻豆社之役。



42. 小英到蔡伯伯家拜訪，看到客廳供奉清水祖師。請問小英可由此得知哪一項事實？ (A)蔡家祖先有科舉考試及格者 (B)蔡家在清帝國時期屬於領導階層 (C)蔡家祖籍為泉州

(D)蔡家以清水祖師為開臺祖。

43. 「有唐山公、無唐山媽」這句諺語反映出清帝國統治前期臺灣社會的何種現象？ (A)省籍情結嚴重 (B)男女比例懸殊 (C)黨派意見對立 (D)女主外男主內。
44. 清代漢人移民來臺，往往是同鄉群居，各地信奉的神祇因移民者的祖籍不同而有差異，不過也有一些神明是大家所共同信奉的，下列何者可為代表？〔91. 第一次基測修訂〕 (A)福德正神 (B)清水祖師 (C)開漳聖王 (D)三山國王。
45. 阿娟是一位清帝國晚期住在淡水的年輕女性，就你所知，她的生活應該不會出現哪一種情形？ (A)遇到來淡水經商的外國人 (B)服用傳教士開的西藥 (C)看到大批的糖由淡水港出口 (D)去當採茶女工。
46. 臺灣開港通商後，基督教長老教會對臺灣影響甚大。以下所述何者是長老教會在臺灣的貢獻？ (A)設立醫院、學校 (B)設立電報學堂 (C)興築縱貫鐵路 (D)設立郵局。
47. 《渡臺悲歌》中寫到：「勸君切莫過臺灣，臺灣恰似鬼門關，千個人去無人轉，知生知死都是難。……」此段描述當時漢人渡海來臺的艱辛。請問清朝治臺初期，來臺移民以哪兩省最多？ (A)江西、廣東 (B)廣東、廣西 (C)福建、廣東 (D)湖南、福建。
48. 清廷治臺早期，來臺漢人常藉由宗族組織來凝聚族群力量。其中是由有血緣關係的同姓者所組成的祭祀類型稱之為何？ (A)開臺祖 (B)宗親會 (C)神明會 (D)唐山祖。
49. 漢人與原住民的關係一直是統治臺灣的不同政權所面臨的共同難題，下列為各政權時期所出現的相關措施與情況，請問時間先後順序排列為何？ (A)乙甲丙 (B)乙丙甲 (C)丙乙甲 (D)甲乙丙。

甲：大批漢人來臺後，透過買賣、欺騙等手段取得原住民土地，使平埔族群的生存空間大幅縮減。

乙：歸順的部落長老、頭目參與地方會議，以協助政令推行。

丙：為解決糧食不足而實施軍屯，不斷開墾而使漢原關係緊張。

50. 以下為同學們在課堂上討論馬雅各的事蹟。其中哪一位同學的發言正確？

(A) 以羅馬拼音為原住民創造文字。

(B) 設立牛津學堂。

(C) 建立了臺灣第一間西醫醫館。

(D) 於臺灣北部傳播基督教信仰。

51. 清帝國治臺早期，其所頒布的「渡臺禁令」對當時的臺灣社會造成重大的影響。下列有關渡臺禁令的敘述何者錯誤？
(A)禁令執行時緊時鬆，民間偷渡始終不斷
(B)羅漢腳充斥造成社會不穩定
(C)社會治安敗壞
(D)男女人口比例失衡，造成男子只好娶西方人為妻。
52. 清廷治臺初期，漢人移民大增，土地大量開墾，農業獲得更進一步的發展。請問這個時期臺灣主要的農作物是什麼？
(A)茶葉、甘蔗 (B)茶葉、樟腦
(C)稻米、甘蔗 (D)鹿皮、稻米。
53. 附圖描述清帝國時期臺灣水圳建設的相關訊息，由這條水圳的興建背景及圖中對話內容，可知此水圳應是？
(A)瑠公圳 (B)貓霧揀圳 (C)八堡圳 (D)曹公圳



54. 1860年代以後，臺灣政治經濟重心逐漸由南部轉移至北部，主要原因是什麼？
(A)南部米糖產量減少，影響經濟
(B)南部沒有對外的通商口岸，導致發展落後
(C)北部因臺灣建省而成為政治中心
(D)北部出口茶葉與樟腦，帶動城鎮興起。
55. 關於清帝國治臺時期的「郊」與「洋行」之敘述，下列說明何者正確？
(A)洋行在臺灣開港後漸漸沒落
(B)郊是由外國商人和臺灣商人共同組成
(C)洋行設立在臺灣各通商口岸
(D)郊產生於臺灣開港通商之後。
56. 「糖」一直是臺灣最重要的出口產品，清帝國時期臺灣開港通商後，出口量更是快速成長。請問當時「糖」多由哪一個港口出口？
(A)鹿港 (B)打狗 (C)雞籠 (D)淡水。

二、題組題

◎「頂港（正港）有名聲，下港有出名。」這句臺灣俚語是強調產品非常出色或形容某項事物非常出名，傳遍了全臺灣，每個人都知道。其中的「正港」是指過去清帝國對臺灣的移民與貿易採取嚴格的管制措施，貨物若不是從正港進入臺灣，表示沒有經過登記與課稅，也就是走私。因此「正港」也就引申成為「貨真價實」的意思。請問：

57. 根據上文，哪一個港口不是清帝國時臺灣的「正港」？(A)鹿港 (B)鹿耳門 (C)艋舺 (D)打狗。
58. 清帝國時期由「正港」進入臺灣的貨物，主要不包括下列哪項？(A)藥材 (B)樟腦 (C)紡織品 (D)日用品。

◎清帝國治臺時期，臺灣民間分類械鬥情況普遍，某次事件描述如下：「一座寺廟正舉辦祭祀神明的活動，泉州人準備豬、羊等牲禮，漳州人看到時故意大聲說：『牲禮全（泉）豬、全（泉）羊，真是熱鬧。』泉州人聽了很不高興，也大聲予以回擊說：『將（漳）豬移過來，將（漳）羊移過來。』結果雙方一言不合，引發大規模械鬥。」請問：

59. 上述情況是屬於哪種類別的械鬥？
(A)性別 (B)祖籍 (C)姓氏 (D)職業。
60. 下列何者是上述械鬥引發的因素？
(A)語言 (B)商業利益 (C)土地 (D)水源。

【試題結束, 請再仔細檢查一遍喔！

祝大家 考試順利】

112學年度地理科七年級段考解答

1	2	3	4	5	6	7	8	9	10
C	B	C	B	C	A	B	D	B	B
11	12	13	14	15	16	17	18	19	20
D	C	C	A	D	C	D	D	B	A
21	22	23	24	25	26	27	28	29	30
D	B	D	B	C	B	B	A	D	B
31	32	33	34	35	36	37	38	39	40
C	A	C	A	B	B	D	B	D	D
41	42	43	44	45	46	47	48	49	50
A	C	B	A	C	A	C	A	B	C
51	52	53	54	55	56	57	58	59	60
D	C	B	D	C	B	D	B	B	A