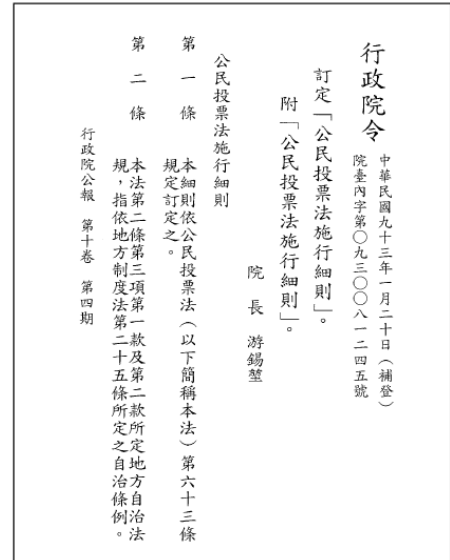
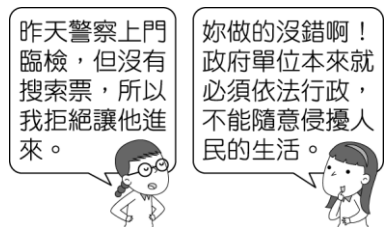


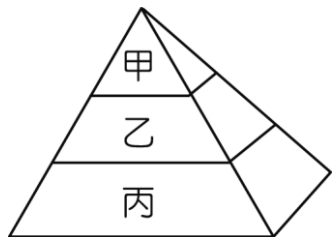
八 年級 _____ 班 _____ 號 姓名：_____

一、單選題（每題 2 分，共 78 分）

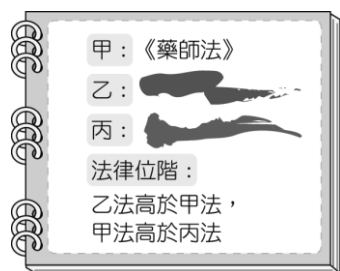
- 法律與其他的社會規範最大的差異，在於法律是以什麼力量制裁犯罪者？（A）公權力（B）內在良知（C）外在輿論（D）超自然力量。
- 由圖中兩人的對話內容可知，法律具備哪一項主要功能？（A）提高生活水準（B）保障人民權利（C）促進社會進步（D）維護社會秩序。
- 附圖中所公布的法令，應屬於哪一個法律位階？（A）憲法（B）法律（C）命令（D）緊急命令。



- 附圖代表法律的位階圖，由高至低為甲→乙→丙。請問：甲、乙、丙依次代表的是哪三個法律層級？（A）憲法、法律、命令（B）法律、命令、憲法（C）憲法、命令、法律（D）命令、憲法、法律。



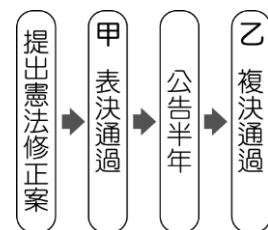
- 承上題，下列何者舉例**錯誤**？（A）甲：憲法增修條文（B）乙：嚴重特殊傳染性肺炎防治及紓困振興特別條例（C）乙：鯉魚潭水庫運用要點（D）丙：光榮國中學生獎懲規定。
- 承第3題，請問關於我國法律位階的敘述，何者正確？（A）甲為我國位階最高的法律（B）甲為狹義的法律（C）乙只做原則性規範，具體明確的法律交由丙來補充（D）若甲牴觸丙規範，則甲無效。
- 鏡名借子鈞的筆記來抄，但不小心沾到汙漬。請問：依照附圖的筆記內容推論，「丙」法最可能是下列何者？（A）《憲法》（B）《憲法增修條文》（C）《校園霸凌防制準則》（D）《地方稅法通則》。



- 冠文將我國法律位階製作成表格，請幫他檢查何者正確？

項目	憲法	法律	命令
（A）位階高低	高	低	中
（B）制定機關	立法院	制憲 國民大會	行政機關
（C）名稱	憲法	通則	規則
（D）效力	中	強	弱

- 怡臻整理我國修憲流程如附圖，好朋友宣袖決定在甲、乙兩處加入標註使資料更清楚。下列何者最可能是宣袖所標註的內容？（A）甲：立法院、乙：公民投票（B）甲：立法院、乙：司法院大法官（C）甲：司法院大法官、乙：立法院（D）甲：司法院大法官、乙：公民投票。




- 為減少海洋塑膠垃圾，政府立法禁止含有塑膠微粒的洗面乳進口，並要求店家不得提供一次性塑膠吸管。請問：政府實施政策的主要目的為何？（A）消極維護社會秩序（B）積極促進社會進步（C）落實保障人民權利（D）被動解決社會紛爭。
- 下列有關「法治」概念的相關解釋：「在民主國家，（甲）所有法律均由司法人員制定及執行，政府和人民都要遵守，但（乙）政府基於施政的需要不必受法律的約束，可以（丙）由總統依現況逕行公布法律，而且法律之前人人平等，（丁）凡是違法的人都應受到處罰。」上述文句中，哪項解釋是正確？（A）甲（B）乙（C）丙（D）丁。
- 上課時，討論到法律的功能，同學紛紛提出意見。昭桑說：「我覺得人性本惡，所以必須制定嚴厲的刑罰，才能嚇阻人類為非作歹的企圖。」請問：昭桑的說法，強調法律的何種功能？（A）保障個人自由（B）促進社會進步（C）增進公共利益（D）維持社會秩序。
- 因應新型冠狀病毒對國內經濟造成衝擊，（甲）機關通過《嚴重特殊傳染性肺炎防治及紓困振興特別條例》，以維護人民健康安全。請問（甲）機關為何？（A）總統（B）司法院大法官（C）立法院（D）

行政院。

14. 附圖中兩人的對話與憲法的哪一項特性最相關？

(A) 固定性 (B) 最高性 (C) 多元性 (D) 原則性。



15. 老師請同學說明憲法的「原則性」，下列哪一位同學的發言正確？

(A)

任何法律和命令
牴觸憲法無效。



(C)

憲法的修改程序較
為困難與繁複。



(B)

憲法的法律位階
最高。



(D)

憲法被稱為眾法之
母、萬法之源。



16. 附圖是思妤檢到錢後，對於後續處理的猶疑。下列何者最能說明思妤猶疑的理由？(A) 不違法的行為即是正確的行為 (B) 只有法律才能規範人與人之間不互相侵犯 (C) 法律並非唯一的社會規範 (C) 具強制力的法律是判斷行為適當與否的唯一標準。



17. 小蝸畢業後參加公務人員考試，後來他通過考試，在政府機關擔任行政人員。上述小蝸的行為，是行使下列哪一類型的人民基本權利？(A) 平等權 (B) 自由權 (C) 受益權 (D) 參政權。
18. 政大游泳池規定，因女性生理假，每月月票給予女性額外增加 7 天天數，以落實下列何者《憲法》保障的權利？(A) 參政權 (B) 自由權 (C) 平等權 (D) 受益權。
19. 參政權的行使必須符合法定年齡與資格。請問有均必須具備下列哪些的資格才能行使參政權？(甲) 年滿 20 歲 (乙) 年滿 26 歲 (丙) 未受監護宣告 (丁) 具備雙重國籍 (戊) 設籍滿 3 個月。(A) 甲丙 (B) 乙丙 (C) 甲丁 (D) 丁戊。
20. 韓劇《請輸入檢索詞 WWW》描述政府要求媒體刪除不利於政府的熱門搜索詞，並進一步下架批評政府的言論與報導，侵害人民的權利。請問：劇中政府的所作所為侵害人民的哪項基本權利？(A) 居住及遷徙

自由 (B) 表現自由 (C) 秘密通訊自由 (D) 集會及結社自由。

21. 非經司法或警察機關依法定程序，不得逮捕、拘禁人民，但是下列何者例外？(A) 沒有繳稅者 (B) 被宣告褫奪公權者 (C) 現行犯 (D) 受監護宣告者。
22. 威銘整理「請願」與「訴願」的比較表格如下，但因為他上課睡著了，請幫他找出唯一正確的項目為何？

	請願	訴願
(A) 提起人	權益受損害的人。	任何人。
(B) 提起之原因	人民對國家政策、公共利益或自身權益的維護。	行政機關違法或不當的行政處分。
(C) 對象	行政機關。	民意機關。
(D) 目的	要求撤銷或變更原處分。	僅為願望的陳述。

23. 政府為了落實環保政策，推行限用塑膠袋政策，雖然此政策可保障人民的環境權，但在推行之初，卻讓塑膠工廠面臨裁員危機，導致塑膠產業工人的何種權利遭到侵害？(A) 自由權 (B) 參政權 (C) 平等權 (D) 受益權。
24. 若依我國《憲法》來判斷，附圖中英國人民所行使的應是下列哪一種權利？(A) 參政權 (B) 受益權 (C) 平等權 (D) 自由權。



25. 附圖是關於我國《憲法》中人民基本權利的分類，賀凱聽完老師的講解後，在課本上加了甲、乙、丙、丁四個註解，下列何者最適合作為「甲」註解的內容？(A) 報考公務人員考試 (B) 提供民眾職業訓練管道 (C) 投書媒體評論政府政策 (D) 禁止因性別差異而同工不同酬。



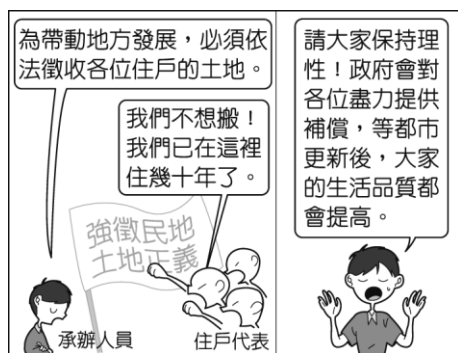
26. 附圖中的情境顯示哪些權利間的衝突狀況？(A) 平等權與集會活動 (B) 訴訟權與新聞自主 (C) 自由權與治安維護 (D) 環境權與經濟發展。



27. 環保人士至雲林縣麥寮鄉六輕廠門口演出行動劇，諷刺工業發展造成企鵝、北極熊等動物的生存權利受到剝奪。請問：上述應屬於下列哪兩種權利間的衝突狀況？（A）工作權與新聞自主（B）勞動權與文化融合（C）受教權與生態保育（D）環境權與經濟發展。
28. 我國司法制度原則上為三級三審制，但刑事訴訟等程序仍可能會對人民權利造成侵害，因此我國制定《刑事補償法》，使坐冤獄的受害人可依法向國家請求賠償。這種制度主要是為了補償人民被剝奪的哪一項基本權利？（A）請願權（B）選舉權（C）人身自由權（D）應考試服公職權。
29. 平等權是我國《憲法》保障人民的權利之一，但附圖中情境的平等顯示出何種問題？（A）形式平等可能造成假平等（B）實質平等不利於弱勢者（C）形式平等才可給予弱勢者合理的差別待遇（D）實質平等會剝奪多數人的權益。



30. 根據附圖中情境可知，住戶的自由權利是基於何種原因而受到限制？（A）防止妨礙他人自由（B）避免緊急危難（C）維持社會秩序（D）增進公共利益。



31. 新聞報導：「颱風天時常見民眾前往海邊觀浪、衝浪，若經執法人員勸導後，民眾仍在海邊逗留或從事活動，主管機關可依法對違規者開單處罰。」依我國《憲法》規定判斷，上述政府限制人民權利的理由，最可能與下列何者相同？（A）不得任意拆閱他人信件（B）不得隨意棄置汙染物品（C）不得違規停放個人車輛（D）不得進入警匪槍戰現場。
32. 正奇認為自己所屬選區內的民意代表，違背了競選時所提出的政見，於是發動連署提案罷免該位民意代表。上述正奇行使的人民基本權利類型與下列何者最相似？（A）對於政府行政處分提出訴願（B）參加國家考試擔任公務人員（C）依照個人需求遷移居住地點（D）接受國民義務教育完成學業。

33. 請問附圖中男生的說法正確嗎？（A）正確，因為這是屬於《憲法》中人民的自由權利之一（B）正確，因為人民可定期集會並進行幫派活動（C）錯誤，因為組織幫派破壞社會秩序，為法律所限制（D）錯誤，因為幫派組織只能在學校之外成立。



34. 新型冠狀病毒快速蔓延導致武漢市封城，巴士、火車、地鐵與飛機全部停運，人民一律禁止出城。歌手林俊傑與孫燕姿連夜譜出新歌〈Stay With You〉，為當地醫護人員與人民打氣。請問：政府依照下列何項理由限制人民的權利？（A）防止妨礙他人自由（B）避免緊急危難（C）維持社會秩序（D）增進公共利益。
35. 承上題，請問：林俊傑和孫燕姿作詞寫曲為《憲法》保障人民的何種自由？（A）人身自由（B）居住遷徙自由（C）表現自由（D）秘密通訊自由。
36. 教育部公告：「為防治控制疫情需要，自公告日起至109年7月15日止，公私立高級中等以下學校，應暫停出國。」請問：上述公告限制人民之何種基本權利？（A）教育上之受益權（B）居住遷徙自由（C）應考試服公職（D）集會結社自由。
37. 依照我國《憲法》規定的基本義務中，下列何者既是權利也是義務？（A）服兵役（B）納稅（C）受國民教育（D）遵守法律。
38. 行政院為因應社會上日益嚴重的犯罪問題，舉辦跨領域的研討會，與會代表建議中央各院依其職權可採行的改善方案，如附表所示。根據表中內容判斷，哪一機關還具有「提出憲法修正案」的職權？

機關	改善方案
(A)	加速審判，伸張社會正義
(B)	修改法律，加重犯罪刑罰
(C)	糾正辦案不力的警政機關
(D)	招考維護治安的警察人員

39. 附圖兩人談話中提及的經費來源，應是倚賴人民對國家應盡的何種義務？（A）服兵役（B）遵守法律（C）納稅（D）受國民教育。



二、題組（每題 2 分，共 22 分）

題組（一）

低頭族將開罰！由於現行法律僅規範駕駛人不得於行駛間使用行動電話，但根據研究顯示，「手機收發簡訊或通話」是最常見導致行人分心的行為。因此，立法院一讀通過「道路交通管理處罰條例第七十八條條文修正草案」，禁止行人在斑馬線上行走時使用行動通訊設備進行數據通訊行為，違者處 300 元罰鍰。

【風傳媒 2014/5/3】

40. 請問：立法院修法的主要原因為何？（A）以柔性宣導的方式保障人權（B）法律乃最低限度道德（C）使政府依法行政，遵守規範（D）與時俱進，跟上時代變化。
41. 若立法院三讀通過《道路交通管理處罰條例》的修正，應交由下列何者公布？（A）立法院長（B）司法院長（C）司法院大法官（D）總統。
42. 請問：行動電話的發明影響法令的修正，屬於文化何種層次的改變？（A）器物影響制度（B）器物影響理念（C）制度影響器物（D）制度影響理念。

題組（二）

女性專用車廂政策，源自於日本地鐵曾發生的性騷擾與性侵害的事件。事件爆發後，社會訴求希望能夠更加積極的保護女性乘車安全，因此鐵道業者研議在深夜時段與通勤高峰設置女性專用車廂，發現能有效降低深夜時段乘車女性被性騷擾的機率，受到廣大民眾的支持。

然而，女性專用車廂近年也出現反對的聲音。反對專用車廂者認為，男人也是支付同樣的費用，為何不能搭乘女性專用車廂？如此的男女差別行為，已經違反日本國憲法第 14 條「男女不應該有所差別」的條文精神，所以積極推動廢除女性專用車廂，並且向法院提告，認為鐵道公司禁止男性搭乘女性專用車廂違反憲法。但東京地方裁判所認為女性專用車廂的設置，有其杜絕癡漢行為、保護女性的目的，因此正當合法。

【轉角國際 2018/3/15】

43. 請問：女性專用車廂設置的目的為何？（A）剝奪男性權利（B）促進人身自由（C）避免緊急危難（D）保護女性乘車安全。
44. 請問：反對專用車廂者的理由為何？他們主張的平等是何種類型的平等？（A）形式平等。認為男女應該享有相同權利（B）形式平等。女性專用車廂的設置為變相歧視女性（C）實質平等。認為男女不應有差別待遇（D）實質平等。認為女性專用車廂限制男性的自由。
45. 請問：法院為何判決「女性專用車廂」的措施符合性別平等？（A）女性專用車廂為合理的差別待遇（B）女性專用車廂可有效降低女性被性騷擾的機率（C）男性不會被性騷擾因此不須被保障（D）女性專用車

廂為杜絕癡漢唯一的方法。

46. 請問：若反對專用車廂者仍不服法院判決，依我國法律，應向下列何者機關聲請解釋憲法？（A）最高法院（B）大法官會議（C）立法院（D）總統。

題組三

瑞士農民卡保羅認為牛角有助於牛群溝通以及調節體溫等功能，因此向政府（甲），希望遊說政府補貼農民擴增農場空間，讓飼養的牛羊等動物自然長角，並基於「牲畜尊嚴」不要除角。由於提案遭到政府否決，轉而發起（乙），希望透過人民的選票對重大議題表達意見與看法。

47. 請問：（甲）為下列何種權利？（A）請願權（B）訴願權（C）訴訟權（D）參政權。
48. 請問：（甲）屬於我國憲法所保障的何項何項基本權利？（A）經濟上的受益權（B）教育上的受益權（C）行政上的受益權（D）司法上的受益權。
49. 請問：（乙）應為下列何種權利的行使？（A）選舉（B）罷免（C）公民投票（D）參加國家考試。
50. 請問：（乙）在我國法律制度上，透過下列哪兩種權利得以落實？（A）選舉權、罷免權（B）創制權、複決權（C）應考試、服公職（D）自由權、受益權。

4

試題結束，大家辛苦了！

「所有歷史上偉大的巫師，他們一開始都像我們現在一樣，甚麼都不是。如果他們可以，我們為什麼不能？」

—《哈利波特：鳳凰會的密令》

108 學年度第二學期第一次定期考查公民科八年級 答案

1-5 ABACA

6-10 CCCAB

11-15 DDCAD

16-20 CDCAB

21-25 CBDAD

26-30 CDCAD

31-35 DBCBC

36-40 BCBCD

41-45 DADAA

46-50 BACCB