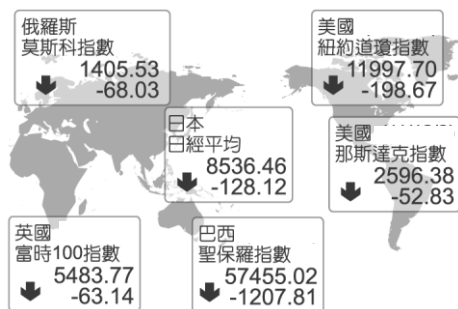


九 年級 \_\_\_\_\_ 班 \_\_\_\_\_ 號 姓名：\_\_\_\_\_

一、單選題

1. 韓國「N 號房事件」的主謀利用通訊軟體 Telegram，在群組聊天室內上傳性虐待影片，並提供付費觀看服務，引起韓國人民憤怒與抗議。請問：「N 號房事件」的發生證明了資訊科技發展所產生的何種問題？  
（A）資訊氾濫，真偽難辨（B）網路犯罪，層出不窮（C）資訊公開，侵犯隱私（D）資訊流通，跨越國界。
2. 樂施會（Oxfam）旨在消除貧窮和不公，為遍及全球的人道救援組織。然而，2018 年卻爆出於援助地區尋找性服務、甚至性剝削未成年兒童等醜聞，引起國際輿論譁然。請問：下列何者為面對國際組織應有的態度？（A）全盤否定國際組織的貢獻（B）積極監督國際組織的作為（C）消極面對國際組織的缺失（D）完全肯定國際組織的做法。
3. 承上題，下列何項國際組織的性質與樂施會（Oxfam）相同？（A）世界衛生組織（B）聯合國（C）綠色和平組織（D）歐洲聯盟。
4. 《巴黎協定》是由聯合國 195 個成員國於 2015 年氣候峰會中通過的氣候協議，期望能共同阻止全球暖化，控制全球排碳量與全球氣溫上升幅度。但由於該協定並無法律約束力，2019 年全球第二大廢氣排放國美國總統川普宣布將正式退出巴黎氣候協定，對國際社會引發衝擊。請問：根據上文推斷，何者**錯誤**？  
（A）該協定缺乏法律效力，對簽署國家並無實際約束力（B）排碳大國美國宣布退出，顯示該協定的脆弱（C）眾多國家共同簽署，代表全球暖化為各國共同面對的困境（D）僅美國宣布退出協定，對全球環境不致造成影響。
5. 承上題，請問各國簽訂《巴黎協定》屬於國際互動的何種方式？（A）國際合作（B）國際交流（C）國際援助（D）國際衝突。
6. 下圖顯示新冠肺炎疫情所引發的股市效應，此效應產生的原因與下列何者有關？（A）社會變遷（B）全球關連（C）產業升級（D）國際分工。



7. 附圖是博允在發表關於我國經濟發展的報告時，所繪製的簡圖。請問：博允的報告主題最可能為下列何者？（A）交通運輸帶動商業發展的全球化（B）地理環境決定本土產業升級的類型（C）國際友邦的支持實現政權的輪替（D）拓展海外殖民地帶動國內經

濟起飛。



8. 世界各國的文化透過許多面向進行互動，關於下圖情境所顯示的現象，下列敘述何者正確？（A）傳統文化與外來文化彼此融合互補（B）強勢文化的傳播對傳統文化觀念帶來衝擊（C）傳播媒體有助於加深對原有文化的認同感（D）強勢文化的擴張對於原有文化並無影響。
9. 在臺灣，我們可以在電視上看到南韓偶像劇，身上穿著歐洲品牌的衣服，隨處可吃到日本料理、美式漢堡。請問：上述情形說明了下列何種現象？（A）他國文化不斷進入，使我們生活上的選擇更多元、豐富（B）在地文化深深影響外國人的生活方式（C）文化之間只會相互排斥，無法融合（D）文化交流必須由政府主導，才不會導致雙方發生衝突。
10. 根據附圖中的情境，可知雇主與員工之間存在何種現象？（A）文化衝突（B）全球關連（C）認同危機（D）宗教改革。



11. 「星巴克（Starbucks）在世界各地擁有數千家連鎖店，成功吸引許多不同文化的消費者，無論走進位在巴黎或上海的連鎖店，看到的都是近似的畫面：桌邊坐滿悠閒飲著咖啡的人們，或是排隊外帶咖啡者。而一向被認為屬於飲茶國度的亞洲市場，在該企業創新的行銷手法與品牌優勢下，許多茶信徒也成了咖啡迷。」上述現象與下列何者的敘述最相符？（A）行銷重點主打物美價廉（B）全球消費行為漸趨一致（C）商品生產過程更加多元（D）飲食習慣符合地方特色。
12. 「根據研究顯示，愈來愈多人習慣在摩斯漢堡、麥當勞等跨國連鎖速食店用餐，使傳統餐飲業的生意大受

影響。」上文描述的現象，為全球化所造成的何種衝擊？（A）本土文化的創新（B）區域統合的趨勢（C）國際貿易的衰退（D）強勢文化的擴展。

13. 德國導演溫德斯曾說：「看電影就等同於在看美國電影。」而南韓政府為了避免好萊塢壟斷世界電影市場，制定「銀幕配額」制度，限制每年必須至少上映 260 天南韓國產電影，而電視臺每年也須播映 40% 的自製影片。請問：南韓政府的這些政策，將產生下列何種影響？（A）造成本國語言、傳統習慣逐漸消失（B）避免本國文化在西方文化強勢擴張之下逐漸消失（C）更容易接受強勢文化的傳遞（D）對自我文化出現認同危機。

14. 《暗戀桃花源》為表演工作坊製作的舞台劇，為台灣重要的現代舞台劇創作。2006 年，與明華園戲劇團合作，將部分劇本改由歌仔戲演出。2015 年參加「美國奧勒剛莎士比亞戲劇節」，由美國演員用英文演出 80 場，成為第一部打進美國主流劇場的華人作品。請問：將現代舞台劇與傳統歌仔戲相互結合，碰撞出不同的火花，稱為？（A）文化衝突（B）文化創新（C）文化資本（D）文化複製。

15. 承上題，請問：我國民間團體「表演工作坊」參與美國奧勒剛「莎士比亞戲劇節」，和下列何種國際互動模式相同？（A）世界各國大學組成隊伍至我國參與世大運，進行體育賽事上的交流（B）美國總統簽署文件，擴大對伊朗使用核武的軍事制裁與經濟封鎖（C）新冠肺炎疫情擴散，各國元首聚集在世界衛生組織總部討論因應措施（D）日本福島核災傷亡慘重，台灣捐款協助災區進行重建。

16. 同學們聚在一起分享最近的生活狀況，下列哪一個同學的行為，顯示出對傳統在地文化的認同感？

（A）



（B）



（C）



（D）



17. 「Whoscall 來電顯示 App 可讓使用者過濾接聽的電話，防止詐騙電話；手機定位 App 可迅速確認使用者的位置，有助於連絡失蹤親友。但根據社工人員表示，接受庇護的受虐者欲與外界聯絡時，多不希望撥出的電話號碼顯示出來，以免洩漏所在的地點。」上述內容最可能在討論下列哪一項議題？（A）全球化的資訊傳播（B）科技與隱私的難題（C）社會福利的重要性（D）權利救濟的多元性。

18. 附圖中的對話可用來說明資訊科技發達所造成的下列何種隱憂？（A）資訊氾濫造成內容真偽難辨（B）資訊公開可能侵犯個人隱私（C）網路犯罪成為新興

社會問題（D）網路成為散播色情的媒體。



19. 附圖是與奕峰同組的同學針對報告主題所表演的情境。請問：奕峰報告的主題最可能為下列何者？（A）經濟發展的隱憂（B）弱勢文化的反撲（C）資訊科技的運用（D）消費習慣的改變。



20. 下圖中兩人對話的內容顯示出下列何種問題？（A）全球化促成網路社群的盛行，改變人們互動方式（B）為避免犯罪率上升，須減緩經濟發展的脚步（C）法律制定落後於社會發展，對於侵犯人格權的行為無法可管（D）科技引發對個人權益的侵害，須藉由法律加以規範。



21. 剛下檔的韓劇《梨泰院 Class》男主角使用三星贊助的最新款摺疊手機引發熱議；熱播韓劇《The King：永遠的君主》也因過多廠商的置入性行銷被網友吐槽。請問：作為閱聽人，我們應如何正確看待戲劇中的行銷手法？（A）認識自我實現的意義（B）分辨不實廣告的資訊（C）解讀媒體隱含的價值（D）了解大眾文化的發展。

22. 生物科技在許多國家掀起研究熱潮，科學家紛紛投入基因改造的研究，已先後複製出多種動物，但各國仍不允許從事何種研究？（A）複製牛（B）複製羊（C）複製人（D）複製豬。

23. 下圖為三位農友的交談內容，下列敘述何者為其交談內容的重點？（A）環境保護的工作刻不容緩（B）生物科技發展的利與弊（C）農業的困境與展望（D）自然資源耗竭的困境。



24. 我國對於智慧財產權所有權人設有法律保障，根據附圖對話中牽涉的冒用問題，適用下列何項法律來處理？（A）《專利法》（B）《商標法》（C）《著作權法》（D）《憲法》。



25. 光榮國中九年級學生共同票選出《歲月神偷》作為畢業歌，喻涵想了解這首歌曲著作權的保障期限，下列哪一位同學的說明最正確？

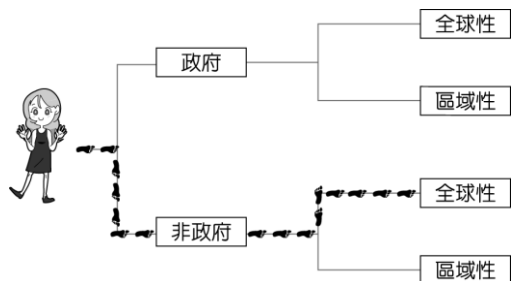
(A) 保障期限會在著作人死亡時立即消滅。

(B) 若著作人沒有提出申請，就沒有保障期限。

(C) 保障期限是著作完成到著作人死後50年。

(D) 無限期限保障，著作人死亡後可由其家屬持有。

26. 胤真在網路上看到一個關於國際組織分類的迷宮遊戲，根據附圖中她行走的路線，她應該會走到下列哪一組織？（A）歐洲聯盟（B）國際綠色和平組織（C）東南亞國協（D）世界貿易組織。



27. 台北市破獲賭博集團，據稱該集團遍及中國與東南亞，包含越南、緬甸、泰國、菲律賓等地。警方依法移送地檢署偵辦。上述內容顯示，國際社會面臨何種問題？（A）人權低落（B）環境汙染（C）貧富差距（D）國際犯罪。
28. 新冠肺炎疫情重，人在馬紹爾群島的孜孜在社交軟體 Instagram 上傳我國政府送至當地的口罩，並標註 Taiwan can help。請問：我國協助馬紹爾群島的行為稱為？（A）國際合作（B）國際援助（C）國際交流（D）國際衝突。
29. 「北韓長期發展國防武力，導致成千上萬的北韓人因饑荒而喪生。軍事專家統計，北韓發射飛彈須花費 800 億北韓圓，相當於 21 億新臺幣，可用來買 23 萬噸玉米，讓北韓人民吃 7 個月左右。」下列何者最能說明上述內容所呈現的狀況？（A）軍備競賽對民生經濟的衝擊（B）國際衝突威脅區域的和平（C）國際貿易造成貧富差距擴大（D）國際組織對於世界和平的影響。
30. 「外交之門」(Doors to Diplomacy) 為美國政府贊助


民間主辦的活動，以外交與國際事務為主題的國際網站設計大賽。主要是希望藉此活動能喚起全球各國青少年主動關心國際外交事務，並利用網路資源做分享、建立夥伴關係，達成共同發展的目的。上述活動可使青少年培養下列何種觀念？（A）關心國際社會、善盡國際責任、培養國際觀（B）參與政黨活動、關心國家大事、培養愛國情操（C）參與同儕活動、培養學生自治精神（D）關心社區事務、培養社區意識。

31. 依照附圖的對話內容判斷，兩人所擔心的隱憂應為下列何者？（A）使弱勢文化取代強勢文化，成為主流文化（B）導致文化衝突不斷，無法互相學習（C）使多元文化消失，喪失文化的多樣性（D）必須依賴戰爭或殖民方式，進行文化傳播。



32. 全球化時代，文化衝突的例子時有所聞。請問：下列哪個例子屬於文化衝突？（A）德國給予外籍勞工生活津貼（B）總統演講時用各國方言打招呼（C）法國禁止在公共場合穿戴全罩式面紗，引起境內某些穆斯林的反彈（D）知名披薩店 Pizza Hut 推出的臭豆腐披薩，造成搶購。

33. 鈺亨到英國旅行，拍了一張照片如附圖所示。請問：英國出現如照片中這類風格的建築物，與下列哪一因素有關？（A）移民（B）傳播（C）留學（D）殖民。



34. 隨著科技的進步，政府規畫推動多卡合一的晶片身分證，就是將健保卡、信用卡等功能整合為一，但被質疑恐導致個人資料外洩，產生不良後果，因此仍在研議中。上述政府是考量哪一項權益可能被侵害的風險？（A）受益權（B）人格權（C）智慧財產權（D）媒體接近使用權。

35. 附圖呈現出某項法律規定施行前、後，幸福社區公告內容的變化，根據圖中訊息判斷，該法律最可能是下列何者？（A）《民法》（B）《消費者保護法》（C）《社會秩序維護法》（D）《個人資料保護法》。

幸福社區公告：管理費繳納情形(100年9-10月)	
9號1樓 王大銘 尚未繳納	9號2樓 陳小刀 3,000元
9號3樓 廖小瑜 3,000元	9號4樓 劉大豪 3,000元
請尚未繳納的住戶儘速繳納	

幸福社區公告：管理費繳納情形(101年11-12月)	
9號1樓 王○○ 3,000元	9號2樓 陳○○ 3,000元
9號3樓 廖○○ 尚未繳納	9號4樓 劉○○ 3,000元
請尚未繳納的住戶儘速繳納	

36. 附圖是晴云看到關於某國際組織的簡介，根據內容判斷應為下列何者？（A）歐洲聯盟（B）聯合國（C）北美自由貿易區（D）亞太經濟合作會議。

它所在的地區，在地理位置上大致為東鄰大陸、西瀕海洋，組織內的人民雖然分屬不同國籍，但許多人使用共同的貨幣，而且人員、貨物可以自由流通，不必額外負擔關稅，可說是區域整合相對成功的例子。

37. 附圖是柏樺在看完電視專題報導後的想法，由內容可知該電視報導具備傳播媒體的何種功能？（A）提供訊息（B）休閒娛樂（C）教育文化（D）監督政府。

我認為該節目製播的這篇專題報導有發揮出「第四權」的效果。



38. 文化交流讓世界成為地球村，而促使文化交流更加快速、頻繁的因素是下列何者？（A）全球經濟的發展（B）世界衛生組織的提倡（C）交通工具與傳播媒體的發達（D）獨裁體制的統合。
39. 美國政府曾經要求印第安人學英語、信仰基督教、禁說部落語言等，希望能同化印第安人。上述美國政府的作法對印第安人造成下列何種影響？（A）延續印第安文化的生命（B）提升印第安文化的水準（C）使得印第安人的語言及傳統文化逐漸消失（D）促使印第安人對自身文化更加認同。
40. 附圖中對話內容所提及的權利，應是指下列何者？（A）人格權（B）智慧財產權（C）媒體接近使用權（D）訴訟權。

這篇報導與事實不符，嚴重損害我的名譽。

你可以要求他們更正報導，這是你的權利。



41. 傳播媒體透過各種管道將訊息有系統的傳遞給閱聽人，附圖中的對話內容顯示傳播媒體具有下列何種功能？（A）提供訊息（B）休閒娛樂（C）教育文化（D）監督政府。

聽說今天有些路段實施交通管制。

我上網查過了，我會避開那些路段改道去上班。



42. 「臺灣是世界盃足球賽的球衣製造商，由回收寶特瓶製成的綠色概念球衣，見證我國對環境保護、節能減碳的承諾，獲得國際肯定。」請問台灣透過何種方式與世界接軌？（A）提供國際援助（B）加入國際組織（C）簽署國際公約（D）善盡國際責任。
43. 原為台灣本土美食的珍珠奶茶，經過行銷後拓展至全球，成為各國飲品的新選擇。請問上文的主題應為下列何者？（A）珍珠奶茶的全球化現象（B）珍珠奶茶引發的食安問題（C）珍珠奶茶熱潮的消退（D）

珍珠奶茶與國人的飲食習慣。

## 二、題組

鐵路警察因補票爭議遭鄭姓乘客刺傷致死的新聞轟動社會。日前一審判決出爐，法官認為被告行為時處「思覺失調症」發病狀態，判無罪，讓許多民眾難以接受，許多網友更於網路上肉搜、謾罵協助精神鑑定的醫生。該名醫生也在日前接受媒體訪問、發表聲明，並在臉書貼文強調自己秉持所學專業判斷，不應考量民意與社會期待。

新北市長侯友宜表示，重大社會事件的審判，當然需要審酌社會各界的意見。精神症鑑定只是審判的一環，法官需要全盤考量社會未來所付出的成本與代價，做出符合人民期待與社會觀感的判決。

面對立委質詢與總統支持檢方依法上訴的發言，司法院秘書長則呼籲各界尊重司法獨立。

台灣廢除死刑推動聯盟執行長則在臉書分享多則貼文，支持法官判決。

44. 請問：該名醫生透過何項權利表達自己的想法？（A）著作權（B）人格權（C）媒體接近使用權（D）參政權。
45. 資訊科技發展使訊息傳播更加迅速，請問：上述「台鐵殺警案」與傳播媒體的何項功能最無關聯？（A）讓民眾掌握最新消息，獲得知的權利（B）讓民眾藉由發表對事件的評論，落實監督政府的功能（C）讓民眾透過新聞媒體的報導，對司法運作流程有更多認識（D）讓民眾獲得娛樂與休閒，調劑身心。
46. 大批網友於網路上發表不理性留言的行為，顯示我國的何項倫理教育有待加強？（A）資訊倫理（B）生命倫理（C）群己倫理（D）環境倫理。
47. 根據上文，下列何者推論最為正確？（A）任何不符合社會期待的判決，都是恐龍法官的不當判決（B）當司法正義無法滿足人民，便可透過肉搜謾罵實現私刑正義（C）精神科醫生秉持專業做出鑑定，不應受社會輿論影響判斷（D）媒體在處理訊息應以點閱率為最大考量，煽動人民情緒。
48. 請問：若僅依照我國中央政府的權限劃分原則判斷，總統支持檢方依法上訴的言論是否正確？（A）正確，總統表態可安定民心，避免社會恐慌（B）正確，總統由人民選出，應順應社會期待（C）錯誤，總統不應干預司法，違反權力分立原則（D）錯誤，總統應直接指示司法院修改判決。
49. 身為現在國家公民，我們應如何看待社會重大案件與各方說法？（A）一味接受自己偏好的媒體報導（B）思辨並查證媒體提供的訊息（C）跟風並大肆批評與自己意見不同的說法（D）事不關己並冷漠看待社會事件。
50. 台灣廢除死刑推動聯盟由國際特赦組織台灣分會等團體所組成。請由廢死聯盟對殺警案的看法推論，廢死聯盟與國際特赦組織的理念為何？（A）致力於爭取政治犯的公平審判及死刑的廢止（B）預防和打擊刑事犯罪（C）致力於消滅地雷的製造和使用（D）阻止汙染並保護生物多樣性。

1-5       BBCDA

6-10       BABAA

11-15      BDBBA

16-20      DBCCD

21-25      CCBBC

26-30      BDBAA

31-35      CCABD

36-40      ADCCC

41-45      ADACD

46-50      ACCBA